



2023-2024 Eğitim-Öğretim Yılı
Levent College 2. Aşama
Geçiş ve Burs Sınavı

Matematik-Science Soru Kitapçığı

İsim - Soy İsim :

Sınıf :

Uyarı: Başlayınız denilmeden soru kitapçığını açmayınız.

Açıklamalar

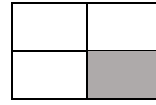

1. Bu soru kitapçığı 30 Matematik, 10 İngilizce Matematik, 10 Science sorusu olmak üzere 18 sayfadan oluşmaktadır. Lütfen kontrol ediniz.
2. Sınav süresi 90 dakikadır.
3. Cevaplar, cevap kağıdına işaretlenecektir.
4. Size zor gelen sorular üzerinde fazla zaman harcamayıp, başka sorulara geçiniz. Zamanınız kalırsa cevaplamadığınız sorulara yeniden dönebilirsiniz.

Başarılar dileriz.

1. Aşağıda verilen ifadelerden hangisi yanlıştır?

- A) Bir kutudaki çikolataların $\frac{1}{5}$ 'i 8 tanedir. Bu kutuda 40 tane çikolata vardır.
- B) 8 doğal sayısı $\frac{58}{8}$ kesrinden büyüktür.
- C) $\frac{17}{5}$ kesri, $2\frac{2}{5}$ kesrine eşittir.
- D) $\frac{3}{5}$ kesri, $\frac{4}{10}$ ve $\frac{16}{20}$ kesirleri arasındadır.

2.



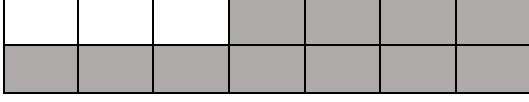
Yukarıda kesir modelleri verilmiş kesirlerin küçükten büyüğe doğru sıralanışı aşağıdakilerden hangisidir?

- A) $\frac{1}{2} < \frac{1}{4} < \frac{1}{8}$
- B) $\frac{1}{8} < \frac{1}{4} < \frac{1}{2}$
- C) $\frac{1}{8} < \frac{1}{3} < \frac{1}{2}$
- D) $\frac{1}{8} < \frac{1}{2} < \frac{1}{4}$

3. $\frac{M+2}{10}$ basit kesir, $\frac{17}{N+4}$ bileşik kesirdir. Buna göre, $M + N$ en çok kaç olabilir?

- A) 19
- B) 20
- C) 21
- D) 22

4.



Yukarıdaki modellenmiş kesre denk olan kesrin payı 44 ise paydası nedir?

- A) 56
- B) 42
- C) 8
- D) 3

5. $\frac{A}{6} < 5$ ve $\frac{B}{4} > 3$ olduğuna göre, A'nın alabileceği en büyük doğal sayı değeri ile B'nin alabileceği en küçük doğal sayı değerinin farkı kaçtır?

- A) 19
- B) 18
- C) 17
- D) 16

6.



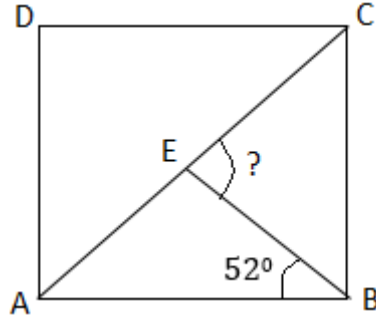
Pikniğe giden bir grup arkadaş 4 eş büyüklükteki kavunu 3'er eşit parçaya bölüyorlar. **Bu kavunlardan her birinin 1'er parçası yenirse aşağıdakilerden hangisi kalan toplam kavun miktarını doğru olarak gösterir?**

- A) $2\frac{2}{3}$
- B) $2\frac{3}{8}$
- C) $3\frac{2}{3}$
- D) $\frac{3}{8}$

7. Bir kutudaki 84 bilyenin $\frac{5}{12}$ 'i kırmızı, 11 tanesi mavi, geri kalanı ise yeşildir.
Yeşil bilyeler kaç tanedir?

- A) 26
- B) 28
- C) 32
- D) 38

8. Aşağıdaki ABCD karesinde CEB açısının ölçüsü kaçtır?



- A) 45°
- B) 52°
- C) 83°
- D) 97°

9. Aşağıda verilenlerden hangisinin değeri daha büyüktür?

- A) $\frac{4}{5}$
- B) % 65
- C) 0.6
- D) 0.605

10. Bir spor salonunda 20 kişilik bir grup antremana katılmaktadır. Gruptakilerin $\frac{3}{5}$ 'ü fitness dersine katılmak istiyor, $\frac{1}{4}$ 'i yoga dersine katılmak istiyor ve kalanları ise pilates dersine katılmak istiyor. Her dersin fiyatları ise şu şekildedir:

- Fitness dersi: 300 TL
- Yoga dersi: 400 TL
- Pilates dersi: 250 TL

Verilen bilgilere göre, grubun yaptığı ders kayıtlarının toplam maliyeti nedir?

- A) 5350 TL
- B) 5600 TL
- C) 6000 TL
- D) 6350 TL

11. Aşağıdaki işlemlerde $m=20$ ve n , m 'nin % 25'i olduğuna göre, **hangi işlemin sonucu en büyüktür?**

- A) $\frac{m}{5} - \frac{n}{5}$
- B) $\frac{m}{5} + \frac{m}{5}$
- C) $\frac{m}{5} + \frac{n}{5}$
- D) $\frac{n}{5} - \frac{n}{5}$

12. Metin, dedesinin verdiği 4500 TL'nin %40'ını harcadı. Daha sonra kalan parasının %15'ini kuzenine verdi. **Buna göre, aşağıdaki bilgilerden hangisi yanlıştır?**
- A) Metin, 1800 TL harcadı.
B) Metin, kuzenine 405 TL verdi.
C) Metin'in 2025 TL'si kaldı.
D) Metin'in harcadığı para miktarı, kuzenine verdiği para miktarından 1395 TL fazladır.


13. Bir demirci, 19.80 m uzunluğundaki çelik çubuktan 350 cm uzunluğunda 3 parça keserek parçaları kaynak yapmak için kullanmıştır. **Kaynak yapılan parçaları birleştirdikten sonra geriye kalan çelik çubuğun uzunluğu için aşağıdakilerden hangisi doğrudur?**



- A) 9 metreden 30 cm daha kısadır.
B) 9 metreden 30 mm daha uzundur.
C) 9 metreden 30 cm daha uzundur.
D) 9 metreden 3 cm daha kısadır.
14. Bir kumaşın önce $\frac{3}{8}$ 'ü sonra $\frac{2}{16}$ 'si satılmıştır. **Buna göre kumaşın kaçta kaç satılmamıştır?**

- A) $\frac{1}{8}$
B) $\frac{4}{16}$
C) $\frac{5}{8}$
D) $\frac{1}{2}$

15.



Yandaki şekilde taralı olmayan alanı gösteren ondalık gösterim hangisidir?

- A) 0.48
- B) 0.52
- C) 0.60
- D) 0.65

16. İki sayının toplamı 150'dir. Birinci sayının $\frac{6}{11}$ 'si 48'dir. Buna göre ikinci sayının yarısı kaçtır?

- A) 31
- B) 44
- C) 62
- D) 88

17. 745.246 ondalık gösterimindeki 4 rakamlarının basamak değerleri arasındaki fark kaçtır?

- A) 40.04
- B) 45.20
- C) 39.96
- D) 35.20

18.

- I. Yamuğun tüm kenarları birbirine paraleldir.
- II. Dikdörtgende karşılıklı kenarlar birbirine eşittir. Her bir açısının ölçüsü 90° dir.
- III. Eşkenar dörtgenin tüm kenar uzunlukları eşit değildir.
- IV. Karenin köşegenleri birbirini dik keser.

Yukarıda verilen bilgilerden kaç tanesi yanlıştır?

- A) 1
- B) 2
- C) 3
- D) 4

19. **Berna hanım, 3 kızı için pasta yapmıştır. Büyük kızı pastanın %36'sını, ortanca kızı pastanın $\frac{9}{25}$ 'unu, küçük kızı da 0.28'ini yediğine göre, aşağıdakilerden hangisi doğrudur?**



- A) Ortanca kızı en az payı yemiştir.
- B) Küçük kızıyla ortanca kızı eşit miktarda pay yemiştirler.
- C) Büyük kızı en az payı yemiştir.
- D) Küçük kızı en az payı yemiştir.

20.

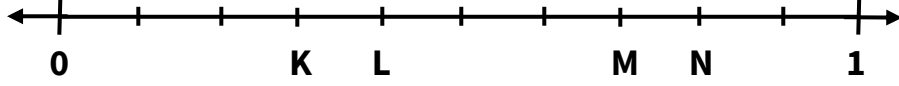
$$\Delta - 35.8 = 4.45$$

$$5.47 + * = \Delta$$

Yukarıdaki eşitliklerde, Δ ve * farklı birer ondalık gösterimi temsil etmektedir. **Buna göre, * hangi ondalık sayıyı temsil etmektedir?**




- A) 5.47
- B) 34.78
- C) 40.25
- D) 65.22

21. Bir okuldaki öğrencilerin %25'i Matematik dersini, %20'si Türkçe dersini, geriye kalan öğrenciler ise İngilizce dersini sevmektedir. **Buna göre, aşağıdaki sayı doğrusunda hangi harf okuldaki Matematik ve İngilizce dersini seven öğrencilerin toplam sayısını göstermektedir?**



- A) K
B) L
C) M
D) N

22. Aşağıdaki tabloda bir bahçede ekilen 500 adet çiçeğin bilgileri verilmiştir. **Buna göre, bu bahçede kaç adet gül vardır?**

A) 300		KARANFİL	%35
B) 225		GÜL	% ?
C) 200		LALE	%25

- D) 175

23. Aşağıdaki dönüşümlerden hangileri doğrudur?

I. $1 \text{ km} = 100 \text{ m}$

II. $25 \text{ L} = 25000 \text{ mL}$

III. $4700 \text{ g} = 4.7 \text{ kg}$

IV. $2000 \text{ mm} = 2 \text{ m}$

A) I ve II

B) II ve III

C) II, III ve IV

D) I ve III

24. Aşağıdakilerden hangisi 65.347 ondalık gösterimindeki 5 ve 7 rakamlarının basamak değerleri toplamını göstermektedir?

A) $5 \frac{347}{1000}$

B) $5 \frac{7}{1000}$

C) 5.347

D) 5.00

25. Aşağıdaki ondalık gösterimlerden kaç tanesi 0.022'den büyük, 0.202'den ise küçüktür?

0.222	0.02	0.2	0.22
-------	------	-----	------

A) 1

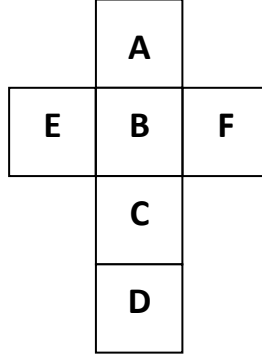
B) 2

C) 3

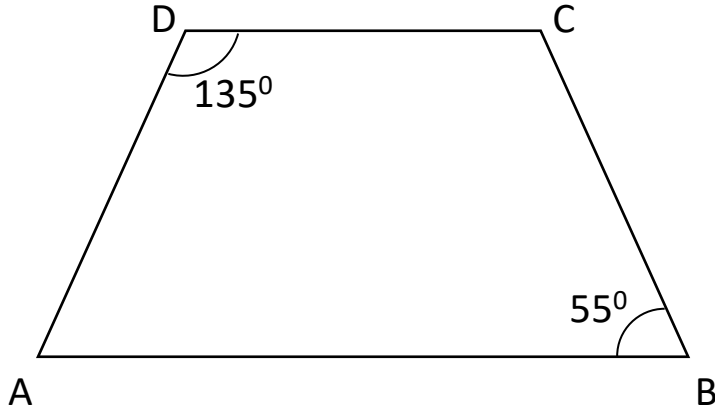
D) 4

26. Aşağıda açık şekli verilen küpün yüzeyleri şekildeki gibi isimlendirilmiştir. **Bu küp, harfler görünecek şekilde kapatıldığında, hangi harfler paralel olmaz?**

- A) A ile C
B) B ile D
C) E ile F
D) A ile D



27. Aşağıda verilen ABCD yamuğunda, AB ve DC kenarları paralel olduğuna göre C açısı A açısından kaç derece fazladır?



- A) 45°
B) 70°
C) 80°
D) 125°

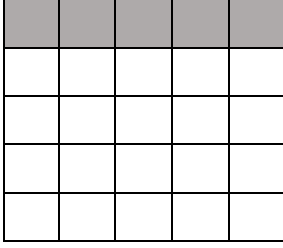
28. Çözümlemiş hali $(7 \times 10) + (4 \times \frac{1}{10}) + (5 \times 1) + (6 \times \frac{1}{1000})$ olan ondalık sayı aşağıdakilerden hangisidir?

- A) 75.406
B) 7.546
C) 70.64
D) 705.406

29. $\frac{A}{36}$ kesri 3 sayısı ile sadeleştirildiği zaman pay ve payda arasındaki fark 5 olmuştur. **Bu durumda kesir sadeleştirilmeden önce “A” en az kaç olabilir?**

- A) 6
B) 9
C) 21
D) 51

30.



Eş parçalara ayrılmış yandaki şekilde, **taralı bölgenin %76'ya denk olması için kaç parça daha taramalıdır?**

- A) 19
B) 14
C) 6
D) 5

MATEMATİK TESTİ BİTMİŞTİR.



LEVENT

COLLEGE

ENGLISH

MATHEMATICS

QUESTIONS

1. Which one of the following decimals shows ‘**twenty and eleven hundredths**’?

- A) 20.011
- B) 20.11
- C) 2.011
- D) 2.11

2. Jane has 12 donuts, and she wants to keep $\frac{1}{4}$ of them for herself and she wants to give the rest to her friend. **How many donuts would her friend get?**

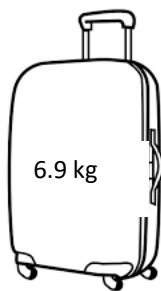


- A) 3
- B) 6
- C) 9
- D) 11

3. Which one of the following is in the correct **ascending order** of the suitcases below?



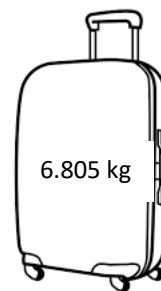
A



B



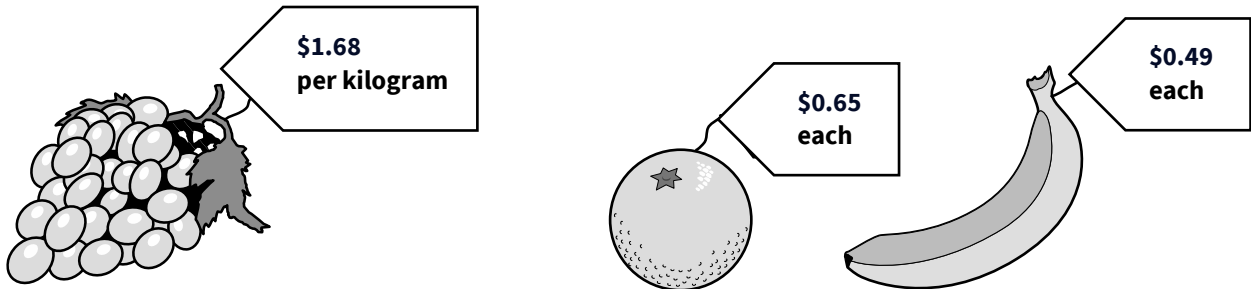
C



D

- A) $A < C < D < B$
- B) $D > B > A > C$
- C) $A < D < C < B$
- D) $D > A > C > B$

4. Tom buys one kilogram of grapes, two oranges and one banana.
How much is the total cost?



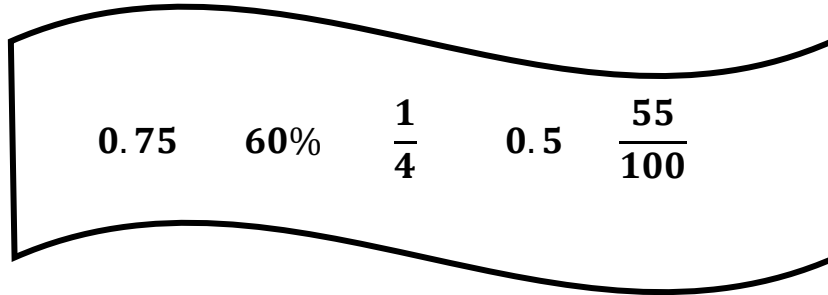
- A) \$3.47
B) \$2.82
C) \$2.33
D) \$1.14
5. Which one of the following shows **42% as a fraction?**

- A) $\frac{2}{5}$
B) $\frac{4}{25}$
C) $\frac{12}{50}$
D) $\frac{21}{50}$

6. If $\frac{5}{12} = \frac{A}{144}$. **What is 10 less than 'A'?**

- A) 60
B) 70
C) 10
D) 50

7. Put the following numbers in an **descending order**.



- A) $60\% > 0.75 > \frac{55}{100} > 0.5 > \frac{1}{4}$
- B) $0.5 < \frac{1}{4} < 0.75 < 60\% < \frac{55}{100}$
- C) $0.75 < 0.5 < \frac{1}{4} < \frac{55}{100} < 60\%$
- D) $0.75 > 60\% > \frac{55}{100} > 0.5 > \frac{1}{4}$

8. Which of the following is **correct**?

- A) $\frac{13}{7} = 1\frac{6}{7}$
- B) $\frac{12}{5} = 2\frac{1}{5}$
- C) $\frac{7}{5} = 2\frac{2}{5}$
- D) $\frac{25}{8} = 3\frac{3}{8}$

9. There was a bowl with 120 candies in it. Billy ate $\frac{1}{6}$ of the candies and Bob ate $\frac{1}{12}$ of the candies. **How many candies were left?**



- A) 30
- B) 60
- C) 90
- D) 120

10. What is the place value of 5 in the number '**123.0759**'?

- A) 0.0005
- B) 0.005
- C) 0.05
- D) 0.5

END OF MATHS TEST



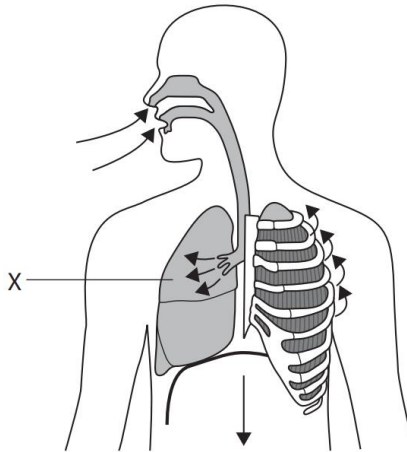
LEVENT
COLLEGE
SCIENCE
QUESTIONS

1. Which of the following are found in **both** animal cells and plant cells?

1. cytoplasm 2. chloroplasts 3. cell wall 4. cell membrane

- A) 1 and 2
B) 1 and 4
C) 2 and 3
D) 3 and 4

2. The diagram shows the human breathing system.



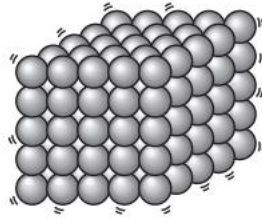
What is the **name** of the organ labelled X?

- A) Diaphragm
B) Liver
C) Heart
D) Lung

3. The main function of the **digestive system** is to...

- A) break down food and absorb products
B) clean the blood
C) take in oxygen
D) transport substances around the body

4. The picture below shows the particle model for a substance.

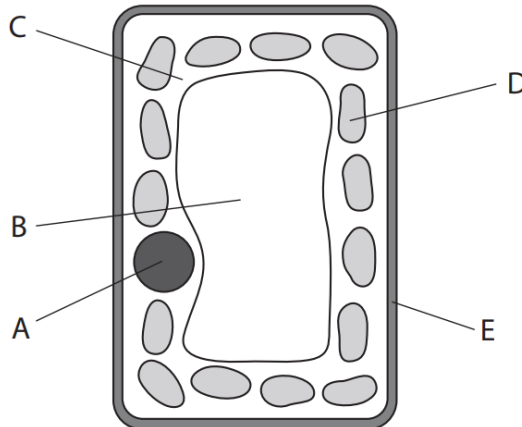


Which substance does this particle model **best** represent?

- A) Carbon dioxide gas
 - B) Liquid water
 - C) Solid iron
 - D) Oxygen gas
5. Which one of these is a **reversible** change?

- A) Bread baking
- B) Ice-cream melting
- C) Wood burning
- D) Egg frying

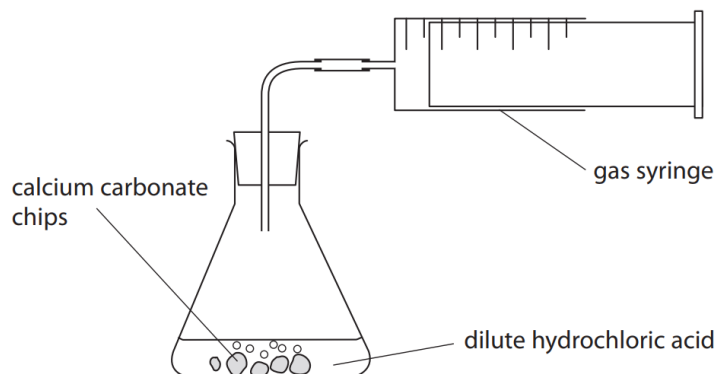
6. The diagram shows some parts of a typical plant cell labelled A to E.



Which letter labels the **vacuole** on the diagram?

- A) A
- B) B
- C) C
- D) D

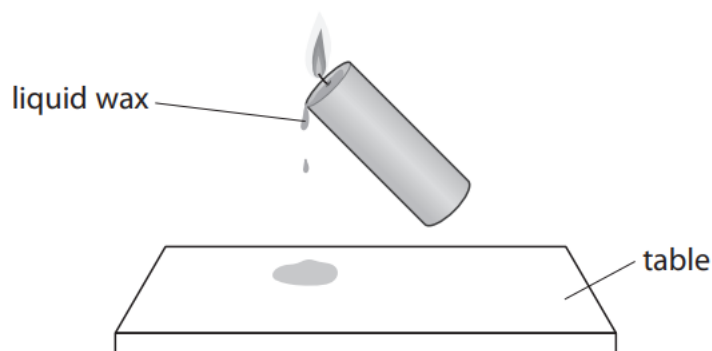
7. A student investigates the reaction between calcium carbonate and dilute hydrochloric acid.



Which of the following shows the **correct state** of the chemicals given?

	Calcium Carbonate Chips are...	Dilute hydrochloric acid is...
A)	gas	solid
B)	solid	gas
C)	gas	liquid
D)	solid	liquid

8. The picture shows liquid wax dripping from a lighted candle onto a table.



When the liquid wax drops onto the table it turns into a solid.

Which **change of state** takes place when the **liquid wax turns into a solid**?

- A) Condensing
- B) Evaporating
- C) Freezing
- D) Melting

9. The picture shows a microscope.



Which of the following **can only be observed using a microscope?**

- A) Bacteria
- B) Insects
- C) Mammals
- D) Reptiles

10. Read the paragraph below.



A truck needs to have **petrol** put into its fuel tank, similar to the need for(X)..... in animals. When this fuel is burnt, **exhaust fumes** are removed like the process of(Y)..... in animals. **Energy** is released when this fuel is burnt. This matches the process of(Z)..... in both plants and animals.

Which of the following **characteristics of living organisms** can be used to fill in the blanks **X, Y** and **Z**?

	X	Y	Z
A)	nutrition	respiration	growth
B)	movement	growth	reproduction
C)	nutrition	excretion	respiration
D)	growth	nutrition	excretion



2023-2024 Eğitim-Öğretim Yılı
Levent College 2. Aşama
Geçiş ve Burs Sınavı

Türkçe - İngilizce Soru Kitapçığı

İsim - Soy İsim :

Sınıf :

Uyarı: Başlayınız denilmeden soru kitapçığını açmayınız.

Açıklamalar

1. Bu soru kitapçığı 30 Türkçe ve 20 İngilizce sorusu olmak üzere 20 sayfadan oluşmaktadır. Lütfen kontrol ediniz.
2. Sınav süresi 90 dakikadır.
3. Cevaplar, size verilen cevap kağıdına işaretlenecektir.
4. Size zor gelen sorular üzerinde fazla zaman harcamayıp, başka sorulara geçiniz. Zamanınız kalırsa cevaplamadığınız sorulara yeniden dönebilirsiniz.

Başarılar dileriz.

1. Beliz Öğretmen, öğrencilerinden kartlarına belirtisiz isim tamlamasına birer örnek yazmalarını istemiştir.

Baran

Su

Almila

Aras



Buna göre, hangi öğrencinin yazdığı Beliz Öğretmenin istediği tamlama çeşidine uygun değildir?

- A) Baran
B) Su
C) Almila
D) Aras
2. Çağla, aşağıda yer alan tablodaki cümlelerin içinde geçen isim tamlamalarının çeşitlerini bulup yazmıştır.

Cümleler	İsim Tamlamaları
I. Katıldığımız bilgi yarışmasında birinci olduk.	Zincirleme
II. Onun çantasının sapı kopunca eşyalar yere döküldü.	Belirtili
III. Günlerdir şehrin akmayan suları sorun yaratıyordu.	Belirtili
IV. Tahta köprü ile nehrin karşı kıyısına geçebiliriz.	Takisiz
V. Cam kavanozu nasıl yere düşürdün?	Belirtisiz

Buna göre, Çağla hangilerini doğru olarak yazmıştır?

- A) I ve II
B) II ve III
C) III ve IV
D) IV ve V

3. Bilim insanları özellikle sahil kesimlerinde insanların yiyeceklerini alarak kaçan martılar üzerinde araştırma yaptı.



Araştırmaya göre insanlarla göz teması kurmadıkları zaman martıların yiyecekleri alıp kaçma olasılıkları daha yüksek. Çalışma 27 martı üzerinde gerçekleşti. Araştırmada yere paket patates kızartması konularak onları gözlemleniler.

Ardından insanlarla göz teması kuran ve kurmayan martıların patatese yaklaşma süreleri hesaplandı.

Yukarıdaki metinde altı çizili zamir, aşağıdaki seçeneklerden hangisinin yerine kullanılmıştır?

- A) Martılar
B) Bilim insanları
C) İnsanlar
D) Patates kızartmaları
4. Berk, aşağıdaki paragrafta yaptığı resim ile ilgili düşüncelerini dile getirmektedir.

Bu resimde kullandığım renklerden birkaçını bazı renklerin karışımından elde ettim. Birçok ressam, bunun yanlış bir yöntem olduğunu söylese de bana göre renklerin karıştırılmasında herhangi bir sorun yok. Açıkçası onların ne düşündüğü umrumda değil. Diğerlerinde de istediğim renkleri kullanacağım. Sonuçta doğadaki renkler de sadece ana renklerden değil, binbir çeşit tondan oluşmuyor mu? Benim zevkim, kim ne diyebilir ki?



Paragrafta geçen altı çizili sözcüklerle ilgili aşağıdaki bilgilerden hangisi doğru değildir?

- A) “Birkaçını” sözcüğü belgisiz zamirdir.
B) Paragrafta –e hali almış kişi zamiri bulunmaktadır.
C) “Kim” sözcüğü soru zamiridir.
D) Paragrafta bir tane işaret zamiri vardır.

5. “O” ve “Onlar” sözcükleri cümlede kullanıldıkları anlamlara göre kişi veya işaret zamiri olabilirler.

Hayvanlar kendi aralarında ormanda saklambaç oynuyorlardı. Sincap, ormanda adama yaklaşmış, (I) ondan, kendisini saklamasını istemiş. Adam da (II) ona kendi kulübesini göstermiş. Sincap kulübeye gidip bir köşeye saklanmış... Biraz sonra diğer hayvanlar gelmiş. Adama, sincabı görüp görmediğini sormuşlar. Adam ise görmediğini söylemiş ama parmağıyla kulübeyi göstermiş. Hayvanlar, adamın işaretini anlamamışlar ve (III) onun sözüne inanıp oradan uzaklaşmışlar. Sincap ise (IV) onların gittiğini anlayınca kulübeden çıkmış ve hepsini sobelemiş.



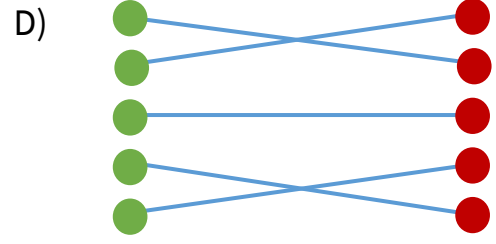
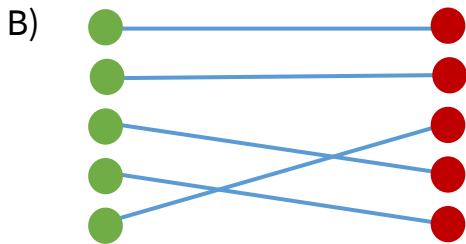
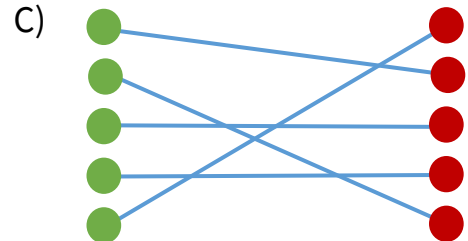
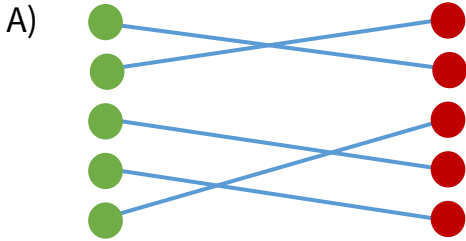
Yukarıdaki parçada numaralandırılmış zamir türleri hangi seçenekte doğru olarak verilmiştir?

- A) (I) İşaret zamiri - (II) İşaret zamiri
(III) İşaret zamiri - (IV) Kişi zamiri
- B) (I) Kişi zamiri - (II) İşaret zamiri
(III) Kişi zamiri - (IV) İşaret zamiri
- C) (I) İşaret zamiri - (II) Kişi zamiri
(III) Kişi zamiri - (IV) Kişi zamiri
- D) (I) Kişi zamiri - (II) Kişi zamiri
(III) İşaret zamiri - (IV) İşaret zamiri
6. “Çok” sözcüğü hangi cümlede sıfat görevinde kullanılmıştır?
- A) Biz çocuklar ağaç evimizi çok beğendik.
B) Çok söyleme, o zaman hiç yapmaz.
C) Onu görmeyeli çok değişmiş.
D) Hayatımda çok insan gördüm, tanıdım.

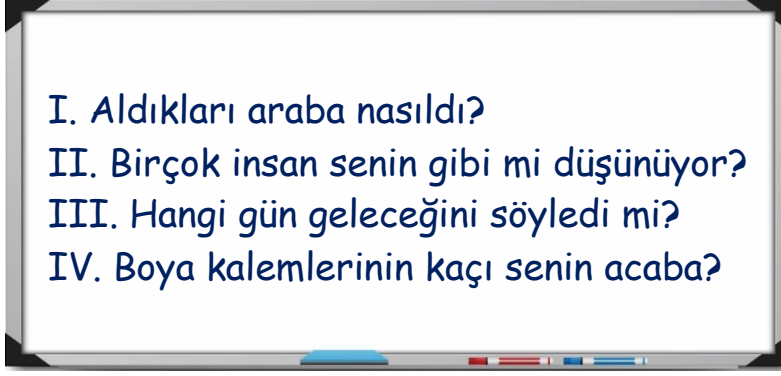
7. Aşağıda verilen cümlelerin içinde ismi niteleyen sözcükler bulunmakta ve bu sözcükler türüne göre eşleştirilmek istenmektedir.

1. Evin önündeki kurumuş yaprakları süpürüyordu.	●	● İşaret sıfatı
2. Bu bitince o oyun başlayacaktı.	●	● Niteleme sıfatı
3. Kusura bakma, her insan böylesine düşünceli olamazdı.	●	● Sayı sıfatı
4. Evler kaçar odalıydı?	●	● Belgisiz sıfatı
5. Dün okula başlamıştık, bugün beşinci sınıf olduk.	●	● Soru sıfatı

Buna göre, doğru eşleştirme aşağıdakilerden hangisidir?




8.



Bahar Öğretmenin tahtaya yazdığı hangi cümlede soru anlamı sıfat ile sağlanmıştır?

- A) I
- B) II
- C) III
- D) IV

9.



Sözcük Robotu, söylenen cümlede unvan sıfatı olup olmadığını tespit etmek için kodlanmıştır. Söylenen cümlede unvan sıfatı varsa, robotun gövdesinde bu sözcük beliriyor. Unvan sıfatı yoksa gövdesi kırmızı renk oluyor.

- I. Mahallemizin Saffet amcası hep bizimle oynardı.
- II. Söylenenlere Avukat Özge Hanım hemen itiraz etti.
- III. Yarın annemin Kemal dayısını ziyarete gideceğiz.
- IV. İnek Şaban'ın filmlerinin hepsini izledim.

Sözcük robotuna aşağıdaki cümleler söylendiğine göre, robotun gövdesinde oluşan durumlarla ilgili hangisi yanlıştır?

- A) I. cümlede robotun gövdesinde “amca” sözcüğü belirdi.
- B) II. cümlede robotun gövdesinde sadece “Avukat” sözcüğü belirdi.
- C) III. cümlede robotun gövdesi kırmızı renk oldu.
- D) IV. cümlede robotun gövdesinde “İnek” sözcüğü belirdi.

10. Can, Derin, Melis ve Ethem “Sözcük Türleri” oyunu oynamaktadırlar.

- Oyun, üzerinde cümleler bulunan kartlar ile oynanmaktadır.
- Kartlar dağıtıldıktan sonra isteğe bağlı olarak sadece bir kez değişiklik yapılabilir.
- Oyunu kazanmak için, değişiklikler yapıldıktan sonra, elde kalan kartta eşit sayıda sıfat ve zamir bulunması gerekir.



Can



Derin



Melis



Ethem

Ötekini düşünüp bu evi almıştı.

Dün akşam sana kim gelmişti?

Herkes sana neden böyle davranıyordu.

Bu insanlar oradan çıkıp nereye gidiyorlar?

Kartlar dağıtıldıktan ve Melis hariç herkes değişikliğini yaptıktan sonra elde kalan kartlar yukarıdaki gibidir.

Buna göre, Melis’in oyunu kazanabilmesi için seçeneklerden hangisi yapılmalıdır?

- A) Melis, kendi kartını Derin’in kartı ile değiştirmelidir.
- B) Melis, kendi kartını Can’ın kartı ile değiştirmelidir.
- C) Melis, kendi kartını Ethem’in kartı ile değiştirmelidir.
- D) Melis hiçbir kart değişikliği yapmamalıdır.

11. Aşağıdaki cümlelerin hangisinde tamlama sıfat ile sağlanmıştır?

- A) Öğle yemeğinde yediğimiz pilav çok yağlıydı.
- B) Onun düşünceleri benim için önemlidir.
- C) Bazıları, o yazarın kalemını çok beğeniyor.
- D) O, hep parmağının arkasına saklanıyor hiç konuşmuyor.

12.

- I. Q çantanın fiyatı diğerlerine göre oldukça pahalıydı.
 II. Diktiğimiz fidanların tümü yeşermiştir.
 III. Bu şehrin evleri ne kadar da güzelmış, gözlerimi alamadım.
 IV. Açıkçası onu daha çok beğenmişim.
 V. Bütün gece odanın bir ucundan öteki ucuna yürüdüm.

Yukarıdaki numaralandırılmış cümlelerde altı çizili sözcüklerin sıfat olanlarına “S”, zamir olanlarına “Z” yazılacaktır.


Buna göre, aşağıdakilerin hangisi doğru olarak yazılmıştır?

	I	II	III	IV	V
A)	S	Z	S	Z	S
B)	S	S	S	Z	S
C)	Z	S	S	Z	Z
D)	Z	Z	Z	S	S

13.

Sonbahar

Düşmüş sarı yapraklar,
 Bomboş kalmış tüm dallar,
Uçar yine göçmen kuşlar,
Soğudu işte havalar.



Yukarıdaki dizelerde altı çizili fiillerin kipi, sırasıyla hangi seçenekte doğru olarak verilmiştir?

- A) Miş’li geçmiş zaman – Şimdiki zaman – Di’li geçmiş zaman
 B) Miş’li geçmiş zaman – Geniş zaman – Di’li geçmiş zaman
 C) Di’li geçmiş zaman – Geniş zaman – Miş’li geçmiş zaman
 D) Di’li geçmiş zaman – Şimdiki zaman – Miş’li geçmiş zaman

14. Aşağıdaki cümlelerin hangisinde eylemin kişisi farklıdır?

- A) Doğum gününü hiçbir zaman kutlamaz.
 B) Birkaç gündür onu hiç görmemiş.
 C) Çocuk dergilerini okumayı çok sever.
 D) Daha dün benimle konuştun.

15. Aşağıda bazı cümleler ve fiillerin zamanını simgeleyen şekiller verilmiştir.

Ben hiç bu şekilde konuşmam.

I

Kaybettiğim kalemi sonunda buldu.

II

Gönderdiğim selamı almamışsın, öyle dediler.






III

Dükkânın başkasına devredildiğini söylüyor.





















IV

Yeni yazdığım romanı ilk sana okutacağım.

V

-  simgesi, di'li geçmiş zamanı,
-  simgesi, miş'li geçmiş zamanı,
-  simgesi, şimdiki zamanı,
-  simgesi, gelecek zamanı,
-  simgesi, geniş zamanı temsil etmektedir.

Buna göre, altı çizili fiiller ve simgeler, aşağıdaki seçeneklerin hangisinde doğru olarak verilmiştir?

	I	II	III	IV	V
A)					
B)					
C)					
D)					

16. Bir fiilin, kip ve şahıs ile ifade edilmiş şekline “çekimli fiil” denir. **Buna göre, “görmek” fiili aşağıdaki cümlelerin hangisinde çekimli fiil olarak kullanılmamıştır?**

- A) Onların ne kadar mağdur olduklarını gözlerimle gördüm.
- B) Zavallı kediciği gördüm, hemen yardım etmeye gittim.
- C) Bunları ancak gözlerinle görünce anlayacaksın.
- D) Gözü yalnızca onu görüyordu, hiç kimseyi umursamıyordu.

17.

I. İzleriz

II. İzleyeceğiz

III. İzliyoruz

IV. İzleyeceksin

Yukarıdaki kartlarda bulunan eylemlerden hangisinde geniş zaman birinci çoğul kişi ile çekimlenmiştir?

- A) I
- B) II
- C) III
- D) IV

18. Yoğun geçen bir eğitim-öğretim sezonunun ardından Pelin, Sude, Ceylin, Emel, Karan ve Baran adlı öğrenciler, yaz tatillerini geçirmek üzere Karpaz, İskele, Girne, İngiltere ve Fransa’ya gitmişlerdir. Bu konu hakkında şunlar bilinmektedir:



- Tatil yerlerinden her birine en az bir kişi gitmiştir.
- Pelin Karpaz’a; Sude İskele’ye gitmiştir.
- Kızlardan hiçbiri Girne’ye gitmemiştir.
- Fransa’ya giden kızlardan biri, Ceylin’dir.
- Karan tatil yapmak için yurt dışına gitmiştir.

Buna göre, aşağıdaki bilgilerden hangisi kesinlikle doğrudur?

- A) Baran Girne’ye gitmiştir.
- B) Emel İngiltere’ye gitmiştir.
- C) Baran İngiltere’ye gitmiştir.
- D) Emel Girne’ye gitmiştir.

19. Aşağıdaki sözcüklerden hangisinin kökü ayraç içerisinde yanlış olarak verilmiştir?

- A) Gezgin (Gez-mek)
- B) Kitapçıdan (Kitap)
- C) Balıkçılar (Bal)
- D) Okulda (Oku)

20. Ekin'in icat ettiği mıknatıs, sözcükleri çekmektedir; ancak sözcüğü çekebilmesi için sözcüğün kökünün fiil olması gerekmektedir.




Buna göre mıknatıs, sözcüklerden hangilerini çekecektir?

- A) Sevgisiz, Uçaklar, Başladı
- B) Uçaklar, İçimizden, Askılık
- C) Uçaklar, Bencillik, İçimizden
- D) Sevgisiz, Uçaklar, Askılık

21. Aşağıdaki altı çizili sözcüklerden hangisi iki yapım bir de çekim eki almıştır?

- A) Hiçbir şey yemediğimiz için açlıktan gözümüz dönmüştü.
- B) Yolculuğu yorucu ama bir o kadar eğlenceli geçmişti.
- C) Yeşilliklerin arasında koşup duruyordu.
- D) Yol kenarındaki zeytinlikleri gözlemleyerek yürüyordu.

22. Aşağıda Pisa Kulesi hakkında “Bilim Çocuk” dergisinden alınmış bir yazı bulunmaktadır.



Pisa Kulesi, dünyanın en ünlü yapılarından. Yapımına 1173 yılında başlanan bu kule, 180 yılda bitmiştir. İlk üç kat bittikten sonra kulenin altındaki toprak çökmeye başlamıştır. Bu olay sonucunda da kule, bir tarafa doğru eğilmeye başlamıştır. Günümüzde ölçümler yapan mühendisler, her on yılın sonunda kulenin yaklaşık bir santimetre kadar eğildiğini söylemektedirler. Mühendisler, kulenin yıkılmasına engel olacak bir yol bulmak için çeşitli projeler üzerinde çalışmaktadırlar.

1564 yılında Pisa’da doğmuş olan ünlü bilim insanı Galileo Galilei’nin de bu kuleye çıkıp deneyler yaptığı söylenmektedir. Anlatıldığına göre Galileo, biri diğerinin yüz katı ağırlığında olan iki topu kulenin tepesinden aynı anda aşağıya bırakarak her ikisinin de yere birlikte çarpmayacağını göstermek istemiştir.

Metne göre, Pisa Kulesi ile ilgili aşağıdaki seçeneklerden hangisi söylenemez?

- A) Pisa Kulesi’nin yapımı 180 yıl kadar sürmüştür.
- B) Günümüzde mühendisler, kulenin yıkılmaması için çalışmaktadır.
- C) Söylentilere göre Galileo, Pisa Kulesi’nde bazı deneyler yapmış.
- D) Toprak çökmesi sonunda Pisa Kulesi doğuya doğru eğilmektedir.

23. **Aşağıdaki seçeneklerin hangisinde basit, türemiş ve bileşik sözcükler aynı cümlede kullanılmıştır?**

- A) Çekmecedeki fotoğraflar yıllar içinde çok yıpranmıştı.
- B) Cumartesi günümüzün tümü yollarda geçti.
- C) Ondan gözlüğümü silmek için bez rica ettim.
- D) Senin yüzünden eve hapsoldük.

(24. soru aşağıdaki şiire göre yanıtlanacaktır.)

DÜNYAYI VERELİM ÇOCUKLARA

Dünyayı verelim çocuklara hiç değilse bir günlüğüne
Allı pullu bir balon gibi verelim oynasınlar
Oynasınlar türküler söyleyerek yıldızların arasında
Dünyayı çocuklara verelim
Kocaman bir elma gibi verelim
Sıcacık bir ekmek somunu gibi
Hiç değilse bir günlüğüne doysunlar
Dünyayı çocuklara verelim
Bir günlük de olsa öğrensin dünya arkadaşlığı
Çocuklar dünyayı alacak elimizden
Ölümsüz ağaçlar dikecekler

Nazım Hikmet RAN



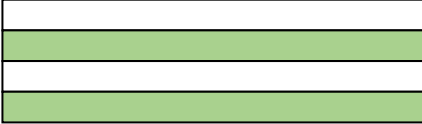


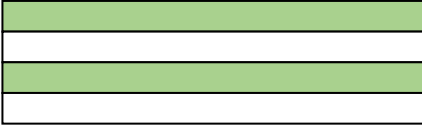
24. Aşağıdakilerden hangisi şairin şiirdeki düşüncelerinden biridir?

- A) Ağaç dikerek dünyayı şu anki durumundan kurtarmak.
- B) Günümüzde çocuklar yeterince oyun oynayamamaktadır.
- C) Arkadaşlığın önemini bilmeyen çocuklar da vardır.
- D) Dünya, ancak çocukların saf ve çıkarsız düşünceleri ile güzel olur.

25. Aşağıdaki kartta bulunan cümlelerden bazılarının öge dizilimi “özne- yüklem” sıralamasındadır.

Filmin son sahnesi etkiyeliciydi.
Yarın yarışmanın kuralları belirlenecek.
Yavru kedicik dün duvardan atlayıp kaçmış.
Marangoz ustasının çaktığı uzun kütük çatladı.

Yukarıdaki kartlarda bulunan cümlelerin öge dizilimi “özne-yüklem” sıralamasında olanlar boyandığında, kartın son görünümü nasıl olur?

- A) 
- B) 
- C) 
- D) 

26. “Kuzeyden güneye amansız bir fırtına esiyordu.” **cümlesinin öznesi, aşağıdakilerden hangisidir?**

- A) Kuzeyden güneye
B) Fırtına
C) Amansız bir fırtına
D) Esiyordu


27. Kerem, yazım kurallarına dikkat etmeden kartlara bazı cümleler yazdı.

I. Başarısız olsakda en azından denemiş oluruz.

II. Bir şey biliyor ki sesini çıkarmıyor.

III. 2015’de en çok satılan kitapları açıkladılar.

IV. Lefkoşa Belediyesi’nin düzenlediği şenliğe katıldık.



Buna göre, Kerem hangi kartlarda yazım yanlışlığı yapmıştır?

- A) I ve III
- B) II ve IV
- C) II, III ve IV
- D) I, III ve IV

28. Aşağıda noktalama işaretleri ile ilgili bazı bilgiler verilmiştir.

Kısaltmalardan sonra nokta konur.	
Bir cümlenin bitmediğini göstermek için iki nokta konur.	
Birbirleriyle ilişkili tarih, yer vb. kavramlar arasına kısa çizgi konur.	
Bir yerden veya bir kimseden alınmış sözlerden sonra virgül konur.	

Bilgilerden doğru olanların yanına “D”, yanlış olanların yanına “Y” koyulduğunda seçeneklerden hangisine uygun bir görünüm oluşur?

- A)

D
Y
D
Y

- B)

Y
D
Y
Y

- C)

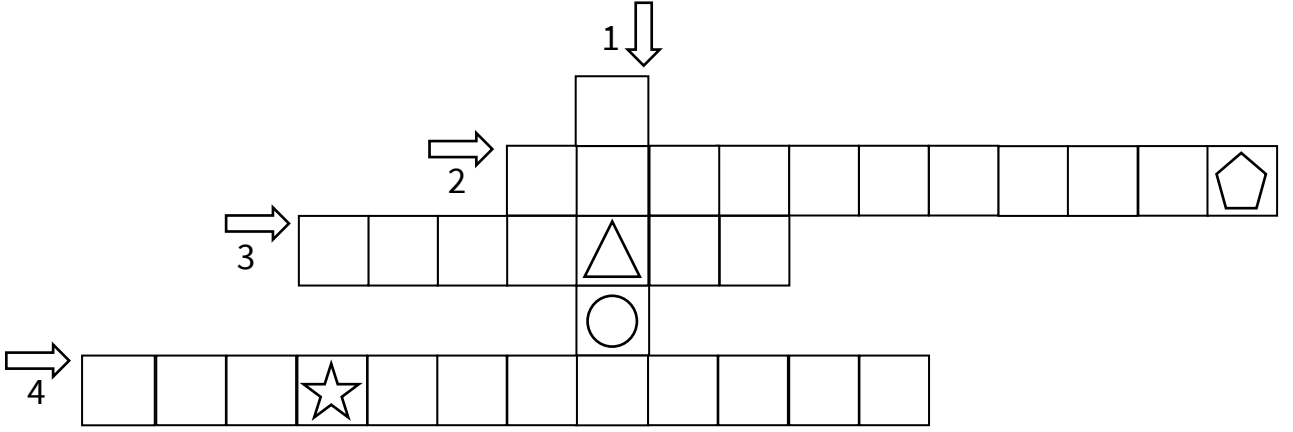
Y
D
Y
D

- D)

Y
Y
Y
D

29. Aşağıda noktalama işaretleri bir çengel bulmacada verilmiştir. Çengel bulmacaya aşağıda verilen cümlelerdeki () yerine gelmesi gereken noktalama işaretlerinin adı yazmaktadır. Çengel bulmacaların bazı karelerine farklı şekiller yerleştirilmiştir.

1. Türk Dil Kurumu, 1932 yılında kurulmuştur ()
2. Ne zaman tükenecek bu yollar ()
3. Herkes tarafından mutlu biliniyordu ama bir yanı ()
4. Eyvah () Okula çok geç kaldım.



Buna göre noktalama işaretlerinin adları çengel bulmacaya yerleştirildiğinde sırasıyla “ ☆ ○ △ ☆ ” yerlerine gelecek harfler ile oluşan kelime aşağıdakilerden hangisidir?

- A) ELTİ
- B) ELİT
- C) ETKİ
- D) ETİK

30. “Kıbrıslı’lar pazar günleri mangal yakmayı çok severler.” cümlesinde yazım yanlışı yapılmıştır. **Buna göre, yukarıda yer alan cümledeki yanlışı, düzeltilerek tekrar yazılırsa doğrusu aşağıdaki seçeneklerden hangisi olur?**

- A) Kıbrıs’lılar pazar günleri mangal yakmayı çok severler.
- B) Kıbrıslı’lar Pazar günleri mangal yakmayı çok severler.
- C) Kıbrıslılar pazar günleri mangal yakmayı çok severler.
- D) Kıbrıslılar Pazar günleri Mangal yakmayı çok severler.

TÜRKÇE TESTİ BİTMİŞTİR.



LEVENT
COLLEGE
ENGLISH
QUESTIONS

PART A: Read the text and choose the correct answer.

The word 'dinosaur' means 'terrible lizard'. They lived from 250 million years ago until 65 million years ago. There were more than 700 different types of dinosaurs. Some only ate plants, and they were called herbivores. Some were meat eaters, and they were called carnivores. Some dinosaurs lived near water, so they only ate fish. *Suchomimus* and *Baryonyx* are two types of dinosaurs that lived near water.

Argentinosaurus, which was discovered in Argentina in 1986, was a plant eater weighing up to 100 *tonnes. One of the longest dinosaurs is thought to be the *Supersaurus*, also called the super lizard, which was first discovered in 1972 in Colorado. It didn't eat meat, but it weighed 44 tonnes. *Tyrannosaurus Rex* and *Velociraptor* were both carnivores. The most famous and strongest dinosaur was the *T-rex* which was a carnivore with a weight of 9 tonnes. The first bones were discovered in 1902 in Montana. However, the largest meat-eating dinosaur was the *Spinosaurus* or the spine lizard. It was first found in 1912 in Egypt, and it was 22 tonnes. *Stegosaurus*, also known as the roofed lizard, was a herbivore. It was the same size as an elephant, but its brain was smaller than a mango. Scientists believe that *Stegosaurus* was the least intelligent of all dinosaurs.

Scientists learn about dinosaurs from the fossils that they find underground. Palaeontologists-scientists who study old fossils- dig up bones and put them together to form skeletons. You can see them in dinosaur museums. There are two types of fossils. The first is body fossils, which are the body parts of an animal or a plant. The second is trace fossils, which are fossils of footprints, eggshells, and nests. Trace fossils can't tell us about the physical appearance of dinosaurs.

Nobody knows exactly why dinosaurs became extinct. Most people believe that a giant asteroid crashed into the Earth and caused climate change. It was probably freezing, and the dinosaurs couldn't adapt to the new weather conditions.

*tonne-is a unit
of mass equal to
1000kg

1. Which of the following was a carnivorous dinosaur that ate fish?

- A) *Baryonyx* B) *Argentinosaurus* C) *Tyrannosaurus Rex* D) *Velociraptor*

2. According to the text, which one of the dinosaurs was the heaviest plant-eating dinosaur?

- A) Spinosaurus
- B) Stegosaurus
- C) Tyrannosaurus Rex
- D) Argentinosaurus

3. What is the other name given to the largest carnivore?

- A) Spine lizard
- B) Roofed lizard
- C) Super lizard
- D) Terrible lizard

4. According to the text, where were the bones of T-Rex first discovered?

- A) Colorado
- B) Egypt
- C) Montana
- D) Argentina

5. Which of the following is an example of a body fossil?

- A) Eggshells
- B) Bones
- C) Footprints
- D) Nests

6. Which sentence is correct?

- A) Stegosaurus was as clever as the other dinosaurs.
- B) Climate change happened when an asteroid hit the Earth.
- C) Velociraptor and T-rex were both plant-eating dinosaurs.
- D) Trace fossils tell us about what dinosaurs looked like.

PART B: Choose the correct answer.

7. A: Have you ever seen a _____?

B: I don't know. What do they _____ like?

A: They are reptiles without arms or legs. They have scales on their skin. They are cold-blooded, and some of them are poisonous.

A) snail / sound

B) mermaid / taste

C) snake / look

D) gecko / feel

8. A: Do you like my new jacket?

B: _____.

A) I'm not sure

B) It's a secret

C) They look small

D) No, thank you

9. I watched a film at the cinema. It was about a criminal _____ robbed banks. The police _____ him until the end of the film.

A) which / escaped

B) who / chased

C) that / stole

D) where / looked

10. Karen: _____ do you eat fast food?

Carol: Once a month.

A) What time

B) How much

C) How often

D) When



11. We're going away to Spain this year for our summer holiday. It's so _____ . I'm looking forward to it.

- A) worrying B) boring C) disgusting D) exciting

12. Jennifer: What's your hurry?

Samantha: I have to be at school at 8 o'clock. I have an exam.

Jennifer: _____! The teacher is running late. The exam won't start until 10 o'clock.

Samantha: Oh! Ok. I still have 2 hours then.

- A) You have an eagle eye
B) Hold your horses
C) Reap the harvest
D) You're a tough cookie

13. Choose the correct response.

Doctor: What's the matter?

Patient: I feel sick, and my stomach hurts.

Doctor: _____.



- A) It looks red. You should take this medicine three times a day.
B) Why don't you get your eyes checked? You may need glasses.
C) It might be something you ate. You should rest and drink some water.
D) You should go to the hospital for an x-ray. Your arm may be broken.

14. A: My grandparents bought that house six months ago.

B: Is this yellow one _____?

A: No, this one is _____.

_____ house is next to the supermarket.

- A) theirs / ours / Theirs
- B) they / our / Theirs
- C) there / our / Their
- D) theirs / ours / Their

15. Camels are one of _____ animals in the world. They can go with only a little food and water for many days. When they find water, they drink 114 litres in 10 minutes. They can drink _____ any other land animal.

- A) the strongest / quicker than
- B) stronger than / the quickest
- C) the most strong / quicker than
- D) the strongest / the quickest



16. Today I'm going to Paris with my family. We _____ by car because there _____ too much traffic. We're taking the train instead. I love _____ by train.

- A) aren't going / are / travelling
- B) don't go / is / was travelling
- C) didn't go / were / travelled
- D) aren't going / is / travelling



17. A: _____ you at the dance show last night?

B: No, I _____ to the show.

A: Why not?

B: I had an accident while I _____ there.

- A) Did / didn't go / was driving
- B) Were / didn't go / was driving
- C) Were / wasn't / am driving
- D) Are / am not going / drove

18. A: Can Marcus play an instrument?

B: Yes, he is in the school band. He can _____.

- A) going to a concert every month
- B) studies English twice a week
- C) play the tambourine really well
- D) listened to classical music

19. Daniel _____ go to work by bus, but he _____ to work

by bus anymore because he _____ a new car.

- A) used / isn't going / is having
- B) use to / doesn't go / has
- C) used to / doesn't goes / have
- D) used to / doesn't go / has

20. Read the dialogue and look at the sentences i-iv. Choose the correct option from A-D to complete the dialogue.

- i)** Let's go and see what they have.
- ii)** How about a necklace?
- iii)** Brilliant. See you at the shop!
- iv)** Do you think your mum will help me choose something?



Amy: I'm looking for a present for my mum. Any ideas?

David: **1)** _____

Amy: Great idea. She loves jewellery.

David: My mum does, too. Her favourite jewellery shop is the one on Saint Street.

Amy: **2)** _____

David: I'm waiting for my mum now, but we can meet you there in ten minutes.

Amy: **3)** _____

David: I'm sure she'll be happy to help.

Amy: **4)** _____

- A) iv / ii / i / iii
- B) ii / iii / i / iv
- C) ii / i / iv / iii
- D) iii / iv / ii / i

END OF ENGLISH TEST

**Levent College 2. Aşama
Geçiş ve Burs Sınavı CEVAP ANAHTARI**

MATEMATİK	
1	C
2	B
3	B
4	A
5	D
6	A
7	D
8	D
9	A
10	D
11	B
12	C
13	C
14	D
15	A
16	A
17	C
18	B
19	D
20	B
21	D
22	C
23	C
24	B
25	A
26	D
27	C
28	A
29	C
30	B

ENGLISH MATHS	
1	B
2	C
3	C
4	A
5	D
6	D
7	D
8	A
9	C
10	B

SCIENCE	
1	B
2	D
3	A
4	C
5	B
6	B
7	D
8	C
9	A
10	C

TÜRKÇE	
1	D
2	C
3	A
4	D
5	B
6	D
7	A
8	C
9	B
10	B
11	C
12	A
13	B
14	D
15	A
16	C
17	A
18	A
19	C
20	D
21	B
22	D
23	C
24	D
25	B
26	C
27	D
28	A
29	C
30	C

ENGLISH	
1	A
2	D
3	A
4	C
5	B
6	B
7	C
8	A
9	B
10	C
11	D
12	B
13	C
14	D
15	A
16	D
17	B
18	C
19	D
20	C