



2025-2026 Eğitim-Öğretim Yılı
Levent College
Burs ve Giriş Sınavı

Matematik Soru Kitapçığı

31 Mayıs 2025

İsim - Soyisim :

Sınıf :

Uyarı: Başlayınız denilmeden soru kitapçığını açmayınız.

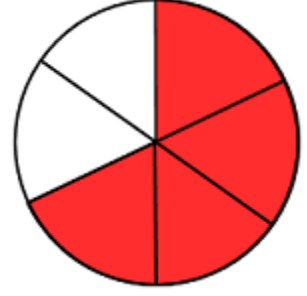
Açıklamalar

1. Bu soru kitapçığı 40 Matematik sorusu olmak üzere 19 sayfadan oluşmaktadır. Lütfen kontrol ediniz.
2. Sınav süresi 90 dakikadır.
3. Cevaplar, cevap kağıdına işaretlenecektir.
4. Size zor gelen sorular üzerinde fazla zaman harcamayıp, başka sorulara geçiniz. Zamanınız kalırsa cevaplamadığınız sorulara yeniden dönebilirsiniz.

Başarılar dileriz.

1. Yanda eş parçalara bölünmüş bir şekil gösterilmektedir.

Şeklin boyalı olan bölgesini temsil eden kesre denk olmayan kesir seçeneklerden hangisidir?



- A) $\frac{2}{3}$
 B) $\frac{12}{18}$
 C) $\frac{8}{12}$
 D) $\frac{8}{10}$

2. Aşağıdaki eşitliklerde  ve  farklı birer ondalık gösterimi temsil ettiğine göre,  kaçtır?

- A) 83.23
 B) 81.55
 C) 69.65
 D) 67.97

$$\begin{array}{l} \text{grey oval} - 75.6 = 0.84 \\ 6.79 + \text{grey rectangle} = \text{grey oval} \end{array}$$

3. Yanda numaralandırılmış olan eşitliklerle ilgili olarak aşağıda yapılan açıklamalardan hangisi doğrudur?

- A) 1 ve 2 doğru, 3 yanlıştır.
 B) 1 ve 3 doğru, 2 yanlıştır.
 C) 2 ve 3 doğru, 1 yanlıştır.
 D) Üçü de doğrudur.

$$\begin{array}{l} \boxed{1} \quad \%54 = 0.540 \\ \boxed{2} \quad \frac{9}{20} = 0.045 \\ \boxed{3} \quad \frac{4}{5} = \%80 \end{array}$$

4. Zeynep Hanım, etiket fiyatı 24 000 TL olan bir dizüstü bilgisayarı satın almak istemektedir. Satıcı, peşin ödeme yapacağı için Zeynep Hanım'a %15 indirim uygulayacaktır.

30 000 TL'si olan Zeynep Hanım, bilgisayarın indirimli fiyatını ödedikten sonra kaç TL'si kalır?



- A) 9 600
B) 6 000
C) 5 400
D) 4 800

5. “ $\frac{75}{12} < A < \frac{35}{4} < B$ ” sıralamasında A ve B birer doğal sayı olduğuna göre, aşağıdakilerden hangisi A + B işleminin sonucu olamaz?

- A) 18
B) 17
C) 16
D) 14

6. Kırtasyeden bir defter ve iki adet kalem aldım.

- Defterin fiyatı 32 TL'dir.
- Ödeme yapmak için kasadaki görevliye 80 TL verdim.

Görevli bana 16 TL para üstü verdiği göre, bir adet kalemin fiyatı kaç TL'dir?

- A) 12
B) 14
C) 16
D) 10

7. Aşağıdaki hangi seçenekte verilen uzunluklar doğru sıralanmıştır?

- A) $0.004 \text{ m} < 4 \text{ cm} < 400 \text{ mm}$
B) $87 \text{ m} < 870 \text{ mm} < 8700 \text{ cm}$
C) $0.76 \text{ m} < 7600 \text{ mm} < 7.6 \text{ cm}$
D) $340 \text{ mm} < 34 \text{ cm} < 3.4 \text{ m}$

8. Bir heykeltıraş, elindeki mermer bloğu 4 eşit parçaya ayırıyor. Bu parçalardan birinin $\frac{3}{5}$ 'ini yeşile boyuyor. Boyadığı kısmın uzunluğu 180 cm olarak ölçülüyor.


Buna göre, mermer bloğun kesilmeden önceki uzunluğu kaç metredir?

- A) 12
B) 18
C) 20
D) 24

9. Tahtada gördüğünüz beş tane ondalık gösterimi, yukarıdan aşağıya olacak şekilde büyükten küçüğe doğru sıralamanız için iki tanesinin kendi aralarında yer değiştirmesi gerekiyor.

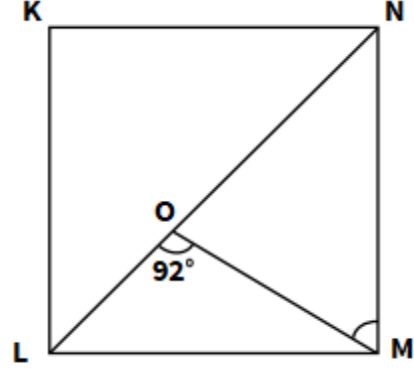
Buna göre, hangi iki ondalık gösterim yer değişirse doğru sıralamaya ulaşılır?

- A) 4.104 ile 4.4
B) 4.4044 ile 4.414
C) 4.4 ile 4.4044
D) 4.44 ile 4.4044



10. Yandaki KLMN karesinde [NL] köşegendir. MOL açısının ölçüsü 92° olduğuna göre, NMO açısının ölçüsü kaç derecedir?

- A) 82°
- B) 53°
- C) 47°
- D) 43°



11. Buğra, evlerinin bahçesindeki ağaçlardan topladığı 56 adet portakalın

- $\frac{1}{4}$ 'ünü dayısına,
- $\frac{3}{8}$ 'ini amcasına götürmüş,
- Geriye kalan portakallarla da annesiyle birlikte reçel yapmışlardır.

Buna göre aşağıdakilerden hangisi doğrudur?

- A) Buğra'nın amcasına götürdüğü portakal sayısı, dayısına götürdüklerinden 5 tane fazladır.
- B) Buğra'nın dayısı ve amcasına götürdüğü portakal sayısı ile, annesiyle birlikte reçel yaptıkları portakal sayısı eşittir.
- C) Buğra'nın dayısına götürdüğü portakal sayısı, amcasına götürdüklerinden 7 tane fazladır.
- D) Buğra'nın dayısı ile amcasına götürdüğü portakal sayısı, annesiyle birlikte reçel yaptıkları miktardan fazladır.

12. Dört basamaklı rakamları birbirinden farklı en büyük doğal sayı ile üç basamaklı en küçük doğal sayının toplamı kaç olur?

- A) 9996
- B) 9986
- C) 9976
- D) 9966

13. 54.36 sayısı ile aşağıdaki sayılardan hangisini toplarsak bir doğal sayı elde ederiz?

A) $\frac{4}{25}$

B) $\frac{16}{25}$

C) $\frac{11}{20}$

D) $\frac{21}{25}$

14. Aşağıda verilen eşitliğe göre A kaçtır?

$$\frac{7}{12} = \frac{A - 4}{48}$$

A) 24

B) 28

C) 32

D) 36

15. Aşağıdaki problemlerden hangisi $1700 - (18 \times 70)$ işlemiyle çözülebilir?

- A) Bir yayınevi, 18 ayda her ay 70 kitap basarak toplam kaç kitap basar?
- B) Tanesi 18 TL'ye alınan ve 70 TL'ye satılan defterlerden 1700 adet satan bir kırtasiye, toplam ne kadar kar eder?
- C) 70 öğrencinin her biri günde 18 sayfa kitap okuyor. Bu öğrenciler 1700 gün boyunca kitap okursa toplam kaç sayfa okunmuş olur?
- D) Ayda 70 TL biriktiren Zeynep, 18 ay boyunca para biriktiriyor. Fiyatı 1700 TL olan bir lego almak isteyen Zeynep'in, bu sürenin sonunda legoya sahip olabilmesi için kaç TL'ye daha ihtiyacı vardır?

16.

- Bir karenin kenar uzunluklarının 2 katını alarak yeni bir kare oluşturuyoruz.
- Yeni oluşturulan karenin alanı 144 cm^2 'dir.

Buna göre, kenar uzunlukları artırılmadan önceki karenin çevresi kaç cm'dir?

- A) 64 cm
- B) 48 cm
- C) 32 cm
- D) 24 cm



17. Ayşe, okul kütüphanesindeki dijital kilitli bir dolabı açmak için altı basamaklı bir kod belirliyor. Kodla ilgili şu bilgiler verilmiştir:



- Kod, altı basamaklı bir doğal sayıdır.
- Koddaki rakamlardan dördü çift rakamdır.
- Kod, tek bir sayıdır.
- Koddaki tüm rakamlar birbirinden farklıdır.

Buna göre, Ayşe'nin belirlediği kodun alabileceği en küçük değer aşağıdakilerden hangisidir?

- A) 102345
- B) 102463
- C) 124683
- D) 102354

18. Ahmet Bey, sahip olduğu bir tarlayı üç çocuğuna paylaşmıştır.

- Büyük kızı tarlanın %40'ını,
- Oğlu tarlanın $\frac{3}{10}$ 'unu,
- Küçük kızı ise tarlanın 0.25'ini almıştır.

Buna göre aşağıdakilerden hangisi doğrudur?

- A) Tarlanın tamamı çocuklara eşit olarak paylaşmıştır.
- B) Çocuklara düşen toplam pay, tarlanın yarısı kadardır.
- C) Çocuklara toplamda tarlanın %95'i verilmiştir.
- D) Küçük kız, tarlanın yarısından fazlasını almıştır.

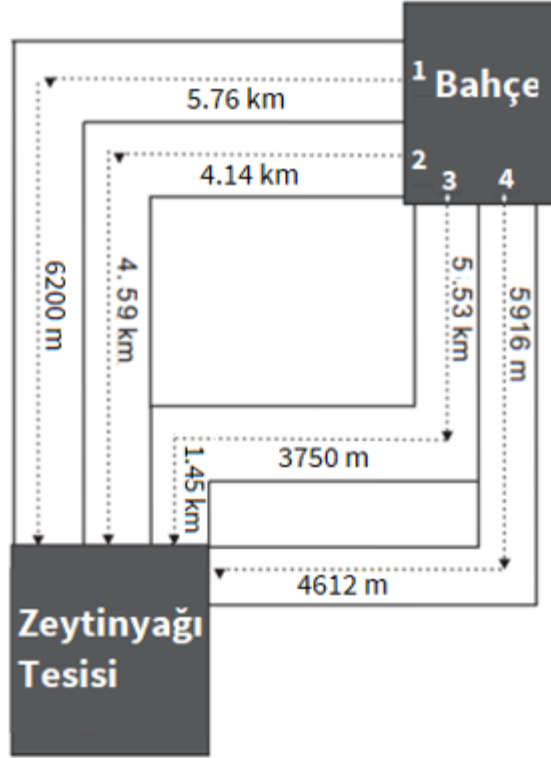
19. Bir ortaokulda toplam 18 sınıf bulunmaktadır ve her sınıfta 30 öğrenci eğitim almaktadır. Yıl sonunda bu ortaokuldan 54 öğrenci mezun olmuş, 45 öğrenci ise yeni kaydolmuştur.

Buna göre, bu ortaokulun yıl sonunda toplam öğrenci sayısı kaç olmuştur?

- A) 540
- B) 531
- C) 525
- D) 600

20. Elif Hanım, bahçesinden topladığı zeytinleri, zeytinyağı tesisine götürmek istemektedir.


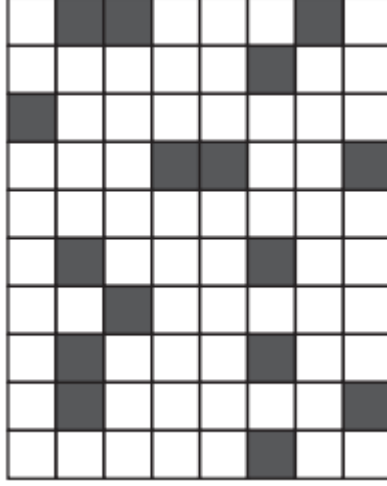
Şekilde de görüldüğü gibi, bahçeden zeytinyağı tesisine dört farklı yoldan ulaşılabilir.



Yukarıdaki şekle göre, Elif Hanım'ın bahçesinden tesise ulaşmak için en kısa yol hangi numaralı yoldur?

- A) 1
- B) 2
- C) 3
- D) 4

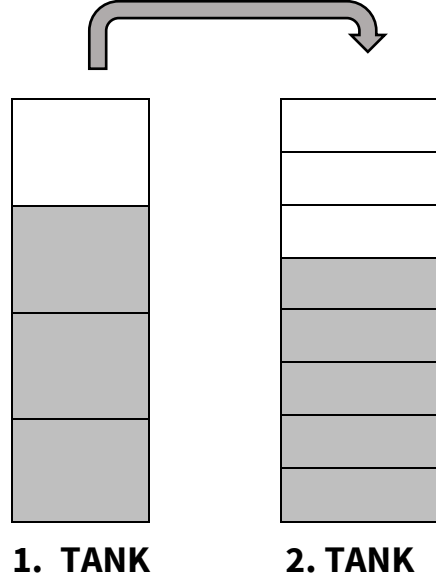
21. Şekillerdeki koyu renkle boyanmış bölgelerin temsil ettiği kesirler dikkate alındığında, aşağıdaki şekle denk kesri gösteren şekil aşağıdakilerden hangisidir?



22. Aynı hacme sahip iki süt tankından birincisi $\frac{3}{4}$ oranında, ikincisi ise $\frac{5}{8}$ oranında doludur.

Birinci tanktan bir miktar süt alınıp, ikinci tanka aktarılıyor. Aktarım işlemi, ikinci tank tamamen dolana kadar sürdürülüyor.

Bu işlem sonunda, birinci tankın kaçta kaçı dolu kalır?



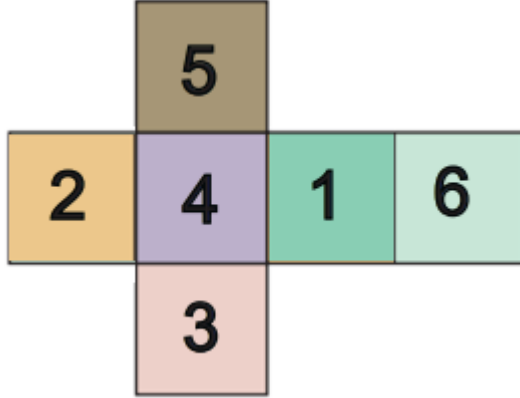
A) $\frac{3}{8}$

B) $\frac{1}{4}$

C) $\frac{1}{2}$

D) $\frac{5}{8}$

23. Aşağıda bir küpün açılımı veriliyor:



Buna göre bu küpün karşılıklı yüzlerine gelen rakamlar toplandığında elde edilen en küçük değer kaçtır?

- A) 3
- B) 4
- C) 5
- D) 6

24. Bir futbol takımında oynayan Berk, Mert ve Efe'nin yaşlarıyla ilgili bilgiler aşağıda verilmiştir:



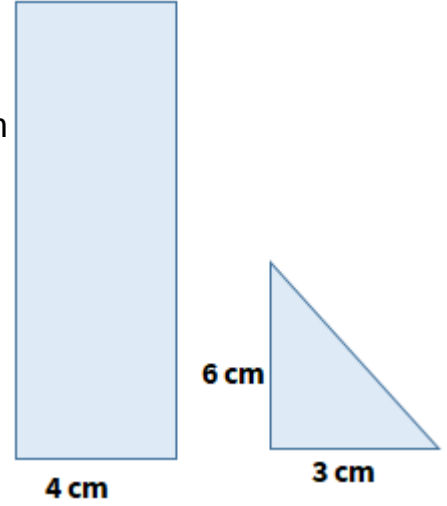
Buna göre, Mert'in yaşı kaçtır?

- A) 20
- B) 18
- C) 16
- D) 14

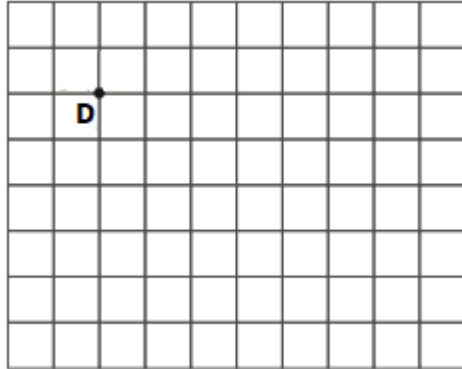
25. Yanda, kısa kenarlarından biri 4 cm uzunluğunda olan bir dikdörtgenin alanı, dik kenarları 3 cm ve 6 cm olan bir dik üçgenin alanının 8 katıdır.

Buna göre, dikdörtgenin uzun kenarlarından birinin uzunluğu kaç cm'dir?

- A) 16
B) 18
C) 24
D) 32



26. Kareli zeminde D noktasında bulunan bir çocuk, önce 5 birim aşağı, sonra 7 birim sağdaki oyun alanına gidiyor. Oyun alanından sonra 3 birim yukarı, 4 birim sola giderek evine dönüyor.



Buna göre, çocuğun evinin D noktasına göre konumu nedir?

- A) 2 birim sağ, 3 birim aşağıda
B) 3 birim sol, 2 birim yukarıda
C) 2 birim sol, 3 birim yukarıda
D) 3 birim sağ, 2 birim aşağıda

27. Bir sanat etkinliğinde öğrenciler, süsleme yapmak için 160 santimetre uzunluğundaki bir kurdele üzerine kare şeklinde süsler yapıyor.



- Eliz, bir kenar uzunluğu 20 cm olan kare süsleri arka arkaya yapıyor.



- Bora ise, bir kenar uzunluğu 8 cm olan kare süsleri arka arkaya yapıyor.



Eliz'in kullandığı kare süs sayısı K, Bora'nın kullandığı kare süs sayısı M'dir.

Buna göre, $\frac{K}{M}$ kesrine karşılık gelen ondalık sayı aşağıdakilerden hangisidir?

- A) 0.3
- B) 0.35
- C) 0.4
- D) 0.45

28. Bir meyve suyu fabrikası, ürettiği meyve sularını 750 mL'lik şişelere doldurmaktadır.

Dağıtım sırasında her koliye 12 şişe yerleştirilmektedir.

Bu fabrikaya 8 koli meyve suyu siparişi verilmiştir.

Buna göre, bu sipariş için gerekli toplam meyve suyu miktarı aşağıdakilerden hangisidir?

- A) 70 L 500 mL
- B) 72 L
- C) 72 L 500 mL
- D) 720 L

29. 25 000 TL'ye televizyon alan biri, paranın bir kısmını peşin ödedikten sonra kalanını her ay 500 TL ödeyerek 10 ayda tamamlamıştır.

Buna göre, televizyonun ücretinin yüzde kaçını peşin ödenmiştir?

- A) %20
- B) %30
- C) %40
- D) %80

30. Bir bilgi yarışmasında toplam 40 soru sorulmuştur. Yarışmacı Ece, 5 soruya hiç cevap vermemiştir. Yarışmada her doğru cevap için 5 puan verilirken, her yanlış cevap için 2 puan silinmektedir. Ece bu yarışmada 30 soruyu doğru cevaplamıştır.

Boş bırakılan sorular için puanlama yapılmadığına göre, Ece bu yarışmadan toplam kaç puan kazanmıştır?

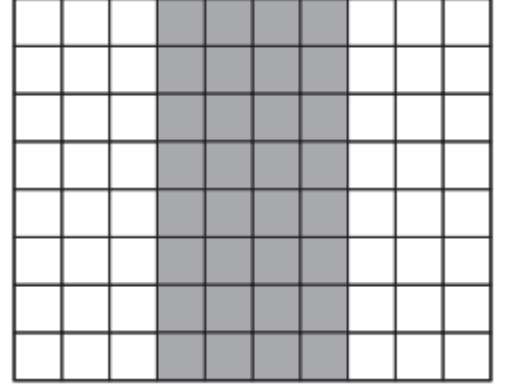
- A) 140
- B) 150
- C) 160
- D) 170

31. Bir geniş açının ölçüsünün 3 katına bir dik açı eklenince toplamı 390° oluyor.

Buna göre, bu geniş açının ölçüsü aşağıdakilerden hangisidir?

- A) 95°
- B) 100°
- C) 120°
- D) 145°

32. Bir bahçe, eş kare bölgelere ayrılarak sebze ekimi yapılmıştır. Bahçedeki kare bölgelerin bir kısmına domates, diğer kısmına henüz hiçbir şey ekilmemiştir. Toplam 80 kare bölgeden oluşan bu bahçenin %60'ına domates ekilmesi planlanmaktadır. Şu ana kadar sadece 32 kareye domates ekilmiştir .



Buna göre, hedefe ulaşmak için kaç kareye daha domates ekilmelidir?

- A) 16
- B) 18
- C) 32
- D) 48

33. Bir kargo şirketi, ilk paketin ağırlığını 38.7 kg olarak ölçmüştür. İkinci paket, birinciden 24.5 kg daha ağır, birinci paket ise üçüncüden 9.3 kg daha ağırdır.

Buna göre, üç paketin toplam ağırlığı kaç kilogramdır?

- A) 72.5 kg
- B) 100.9 kg
- C) 131.3 kg
- D) 149.9 kg

34. Defne, elindeki boncukların önce $\frac{5}{12}$ 'sini, sonra $\frac{1}{4}$ 'ünü kullanarak bileklik yapmıştır.

Elinde hala 20 boncuk kaldığına göre, Defne'nin başlangıçta kaç boncuğu vardı?



- A) 48
- B) 60
- C) 72
- D) 84

35. Bir pastacı, hazırladığı büyük bir pastanın

- $\frac{3}{8}$ 'ini çilekli,
- $\frac{1}{8}$ 'ini muzlu,
- $\frac{1}{4}$ 'ünü ise kivili yapmıştır.

Pastanın kalan kısmına ise meyve eklememiştir.

Buna göre, meyve eklenmeyen kısmı ifade eden kesrin, sayı doğrusundaki yeri aşağıdakilerden hangisinde doğru verilmiştir?

- A)
- B)
- C)
- D)

36. Bir kütüphanede toplam 300 kitap bulunmaktadır. Bu kitaplar üç farklı türde yazılmıştır : Roman, şiir ve masal. Aşağıdaki tabloda, şiir ve masal kitaplarının oranları yüzde olarak verilmiştir:

Kitap Türü	Kitap Oranı (%)
Roman	
Şiir	% 25
Masal	% 45

Buna göre, roman türündeki kitap sayısı kaçtır?

- A) 30
- B) 60
- C) 70
- D) 90

37. Kenar uzunlukları 40 m ve 60 m olan bir fuar alanının zemini, kenar uzunlukları 20 cm ve 400 cm olan dikdörtgen şeklindeki tahtalarla kaplanacaktır.

Bu iş için kaç adet tahta gereklidir?

- A) 1800
- B) 2500
- C) 3000
- D) 3200

38. Ali'nin koşu antrenmanında yaptığı üç turun süreleri aşağıda verilmiştir:

1. Tur = 354 saniye
2. Tur = ?
3. Tur = 765 saniye

Ali'nin tur süreleri, en yakın onluğa yuvarlanarak toplandığında toplam süre 1440 saniye olmaktadır.

Buna göre, Ali'nin ikinci turunun süresi yaklaşık kaç saniyedir?

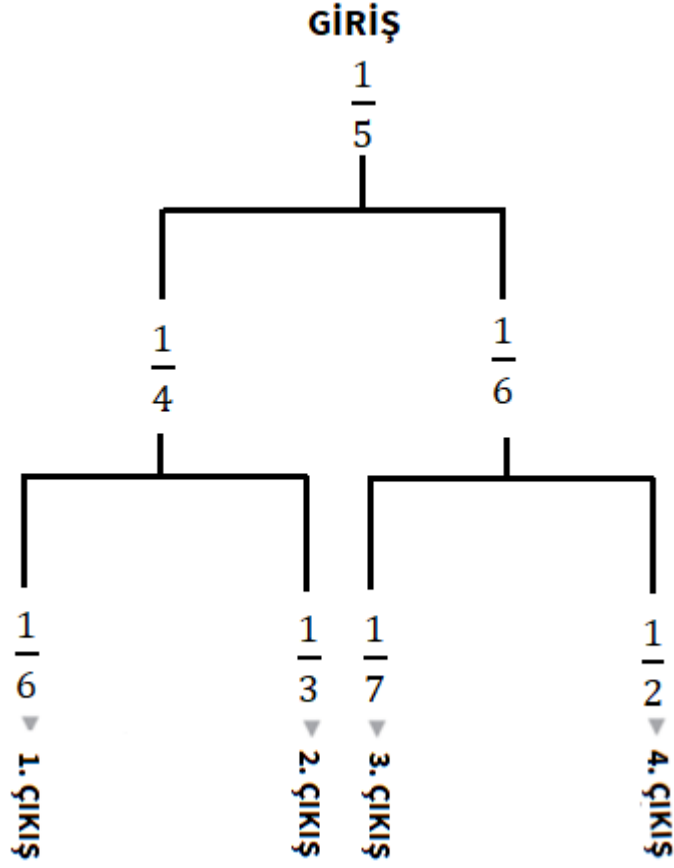
- A) 120
- B) 220
- C) 320
- D) 420

39. Aşağıdakilerden hangisi $\frac{3}{20}$ 'den büyük, %22'den küçüktür?

- A) 0.1
- B) $\frac{4}{25}$
- C) %25
- D) 0.05

40. Aşağıdaki şeklin giriş kısmından başlanarak, o kesirden küçük olan kesre doğru ilerlenecektir.

Buna göre kaç numaralı çıkıştan çıkılır?



- A) 1
- B) 2
- C) 3
- D) 4



2025-2026 Eğitim-Öğretim Yılı
Levent College
Burs ve Giriş Sınavı

Türkçe-İngilizce Soru Kitapçığı

31 Mayıs 2025

İsim - Soyisim :

Sınıf :

Uyarı: Başlayınız denilmeden soru kitapçığını açmayınız.

Açıklamalar

1. Bu soru kitapçığı 40 Türkçe 20 İngilizce sorusu olmak üzere 30 sayfadan oluşmaktadır. Lütfen kontrol ediniz.
2. Sınav süresi 100 dakikadır.
3. Cevaplar, cevap kağıdına işaretlenecektir.
4. Size zor gelen sorular üzerinde fazla zaman harcamayıp, başka sorulara geçiniz. Zamanınız kalırsa cevaplamadığınız sorulara yeniden dönebilirsiniz.

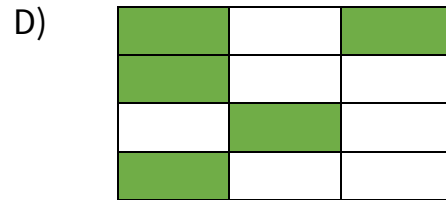

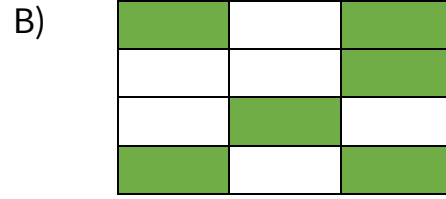
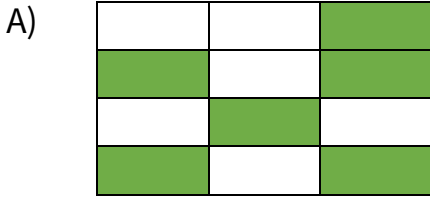
Başarılar dileriz.

TÜRKÇE SORULARI

1. Sınıfta, öğretmen tarafından “Kök Tombala” oyunu oynatılmıştır. Oyunda her öğrenciye, üzerinde çeşitli kelimelerin yer aldığı bir kart verilir. Öğretmen ise kutudan yalnızca kök halinde olan kelimeleri çekip yüksek sesle okur. Öğrenciler, kartlarında bu kelimeleri bulup boyar. Bu oyunu Sude kazanmıştır. Aşağıda, öğretmenin oyun başlamadan önce Sude’ye verdiği kart yer almaktadır.

Kayak	Çizgi	Taş
Tuzak	Gezi	Gölge
İşle	Ev	Saygı
Gitar	Kalemler	Balta

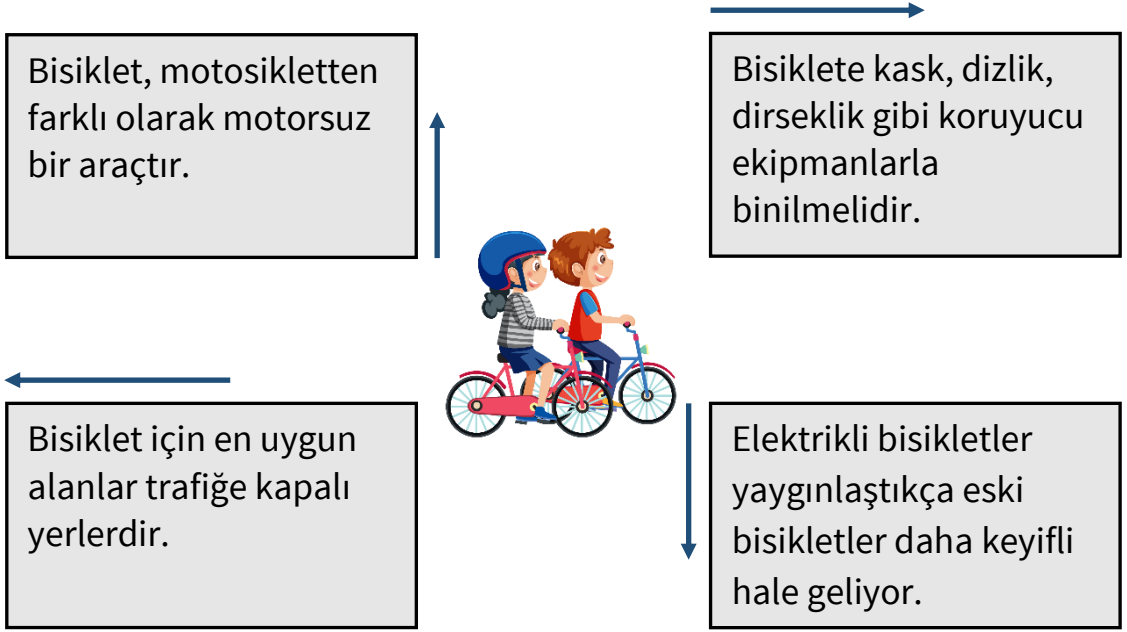
Buna göre, Sude’nin kartının boyanmış hali aşağıdakilerden hangisidir?



2. “Onun sessizliğini ilgisizlik zannetmek büyük bir yanıltı.” **cümlesinde altı çizili sözcükte meydana gelen ses olayının benzeri, aşağıdaki cümlelerin hangisinde vardır?**

- A) Yardımlarını esirgemediği için ona içtenlikle teşekkür etmek istedim.
 B) Doğanın sade ama etkileyici güzelliği karşısında insan büyülenmeden edemiyor.
 C) Başarısının sırrı, asla vazgeçmemesinde gizliydi.
 D) Zor zamanlarda sabretmek, bazen en büyük gücü gösterir.

3. Berkan ve kardeşi Sıla, bisikletleriyle üzerlerinde ünsüz sertleşmesine uğramış kelimelerin yazılı olduğu yönlere gideceklerdir.



Buna göre, Berkan ile Sıla'nın gideceği yönler aşağıdakilerden hangisinde doğru verilmiştir?

- A)
- B)
- C)
- D)

4. Benzetme sanatında; benzeyen, kendisine benzetilen, benzetme yönü ve benzetme sözcüğü olmak üzere dört temel unsur bulunur.

Buna göre, aşağıdaki cümlelerin hangisinde benzetmenin dört unsuru da kullanılmıştır?

- A) Oyuncunun bakışları kartal gibiydi.
 B) Herkesin gözünde, o sahnede âdeta ışık saçıyordu.
 C) Çocuk, kuzu gibi sessizdi ve yerinde oturuyordu.
 D) İpek kadar yumuşak ve sevecendi.

5.

“Yumuşama Dedektörü”, verilen cümlede ünsüz yumuşaması olup olmadığını tespit etmek için tasarlanmış özel bir kalem. Dedektör cümlenin üzerinden geçtiğinde, eğer cümlede ünsüz yumuşamasına uğramış bir kelime varsa, kalemin ortasındaki ekranda o kelime belirir. Eğer ünsüz yumuşaması yoksa, kalemin ortasındaki ekran kırmızı renge dönüşür.



Benzeşme Dedektörü, aşağıdaki numaralandırılmış cümlelerin üzerinden geçiyor.

I. Akşam olunca oldukça yorulduğumuzu anladık.

II. Çocuk, sabah kahvaltısında sütü keyifle içti.

III. Gittiği şehirde yeni bir iş buldu ve kazancı önceki işine göre daha iyiydi.

IV. Martıların çığlıkları, sabahın erken saatlerinde göğü yankıladı.

Buna göre Yumuşama Dedektörü yukarıdaki numaralandırılmış cümlelerin üzerinden geçtiğinde, kalemde oluşacak durumlarla ilgili aşağıdakilerden hangisi yanlıştır?

- A) I. cümlede kalemin ekranında “yorulduğumuzu” sözcüğü beliriyor.
- B) II. cümlede kalemin ekranında kırmızı renk beliriyor.
- C) III. cümlede kalemin ekranında sadece “gittiği” ve “kazancı” kelimeleri beliriyor.
- D) IV. cümlede kalemin ekranında kırmızı renk beliriyor.

6.

I. Komşumuz, oğlu için güzel bir doğum günü sürprizi hazırlamış.

II. Gönül bazen mantığın kabul etmediği şeyleri ister.


III. Her sanatçı, yaşadığı devri eserlerine yansıtır.

IV. Tatlı bir söz, her zaman ağızdan çıkan sert sözden daha etkilidir.

Yukarıdaki numaralandırılmış cümlelerin hangisinde ünlü düşmesi vardır?

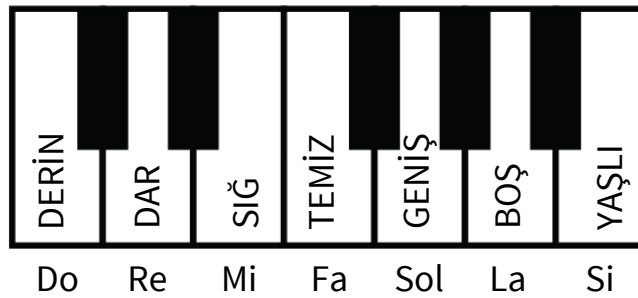
- A) I ve III
- B) I ve IV
- C) II ve III
- D) II ve IV

7. Türkçede “etmek”, “olmak”, “kılmak” gibi yardımcı eylemler bazı sözcüklere getirildiğinde ses olayları görülebilir. Bazı durumlarda ise bu yardımcı eylemler, aynı anda birden fazla ses olayına neden olabilir. Bu bilgiye göre sözcük yazan dört öğrencinin yazdıkları aşağıda verilmiştir.



Buna göre, aşağıdaki öğrencilerden hangisinin yazdığı sözcüğe “etmek” yardımcı eylemi getirildiğinde birden fazla ses olayı gerçekleşir?

- A) Cem
B) Pınar
C) Zehra
D) Demir
8. Aşağıdaki görselde piyano tuşlarının üzerinde bazı kelimeler ve notalar yer almaktadır.



Bu bilgilere göre, hangi melodi zıt anlamlı sözcük çiftlerini ifade etmektedir?

- A) Do – Re – Mi – Fa
B) Do – Mi – Sol – Re
C) Mi – Do – Si – La
D) Mi – Fa – Sol – Si

9. Aşağıdaki paragrafta altı çizili sözcükler bulunmaktadır ve bu sözcüklerde bazı ses olayları gerçekleşmiştir.

Deniz kenarında yürürken küçük bir kutu buldum. Kutunun üstü yosunlarla kaplıydı ve sanki yıllardır orada duruyormuş gibi görünüyordu. Merakla kutuyu açtım. İçinde eski bir mektup ve parlak bir taş vardı. Taşın renği turuncuya çalıyordu ve güneş ışığında parlıyordu. Mektupta, bu taşın gizli bir sırrı saklıyor olduğu yazıyordu. O günden sonra, her gün taşın sırrını çözebilmek için onu uzun uzun seyretmek alışkanlığım haline geldi.



Paragraftaki altı çizili sözcüklerle ilgili aşağıdakilerden hangisi doğru değildir?

- A) “Saklıyor” kelimesinde, “-yor” eki geldiği için ünlü daralması olmuştur.
B) “Açtım” ve “mektupta” sözcükleri ünsüz benzeşmesine uğramış sözcüklerdir.
C) Altı çizili sözcüklerden bir tanesinde hece düşmesi olayı vardır.
D) Altı çizili sözcüklerden sadece bir tanesinde ünsüz yumuşaması olayı görülür.

10.

(I) Bilim insanları dünya genelinde biyolojik çeşitlilikte azalma olduğunu, canlı türlerinin büyük bir bölümünün yok olma tehlikesiyle karşı karşıya olduğunu bildirdi. (II) İncelenen 105 bin 700 canlı türünden 28 bini tükenme tehlikesiyle karşı karşıya. (III) Aşırı avlanma nedeniyle iki okyanus vatozu familyasının nesli tükenme noktasına geldi. (IV) Bilim insanları bu yok oluşun en önemli sebebinin insan müdahalesi olduğu belirtiyor.

Yukarıdaki metinde numaralandırılmış cümlelerden hangilerinde neden-sonuç ilişkisi vardır?


- A) I – II
B) I – III
C) III – IV
D) Yalnız IV

11. Aşağıda kelimelerin yazılı olduğu bir piramit bulunmaktadır.



Piramitte yer alan kelimelerden hangisinde, tüm ünsüz harfler yumuşak; tüm ünlü harfler ise ince ünlüdür?

- A) Gezegen
B) Ziyaret
C) Bilezik
D) Çekiç
12. Bir tavuk, çiftlikte gezinirken kaybolur. Kümese dönebilmesi için önünde dört farklı yol vardır. Tavuk sadece bir tanesini seçerek kümesine ulaşabilir. Bu yolların üzerinde ise birer cümle yer almaktadır ve her cümlede bir ses olayı bulunmaktadır.



1. yolda yazan cümle: Cıvcıvler, inekleri izlemek için dışarı çıktı.

2. yolda yazan cümle: Çiftlikteki tüm hayvanlar sağlıklı ve bakımlıydı.

3. yolda yazan cümle: Tavuk, çiftlikteki oyuncu domuzlarla oynuyordu.

4. yolda yazan cümle: Küçük koyunun sanki karnı ağrıyordu.

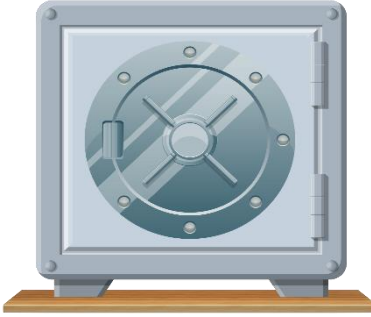


Tavuk, ünlü daralmasının bulunduğu cümlenin yer aldığı yoldan geçerek kümesine ulaşır.

Buna göre tavuk kaçınıcı yoldan kümese gitmiştir?

- A) 1. yoldan
B) 2. yoldan
C) 3. yoldan
D) 4. yoldan

15. Yumuşamaya uğramış kelimelerin bulunduğu cümlelerin numaraları kasaya girildiğinde, kasa açılmaktadır.



10 - Söylediğim gibi, toplantı dokuzda.

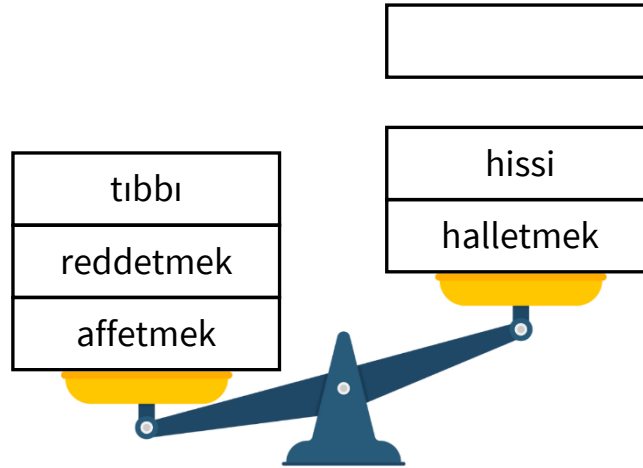
23 - Hukukun en temeli adalettir.

54 - Yeni üretilen motor bu yakıtı duyarlı.

77 - Kraliçe, tacı gururla taşıyordu.

Buna göre, kasanın açılabilmesi için hangi numaraların kasaya girilmesi gerekir?

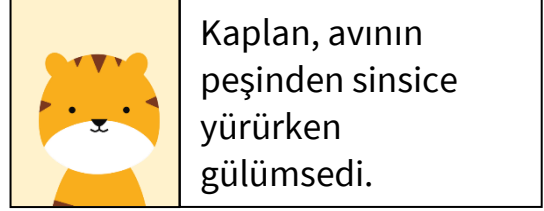
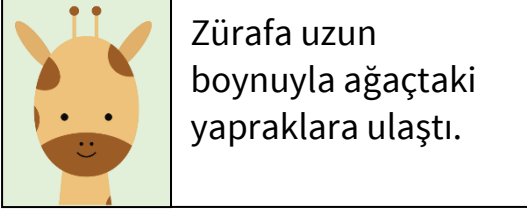
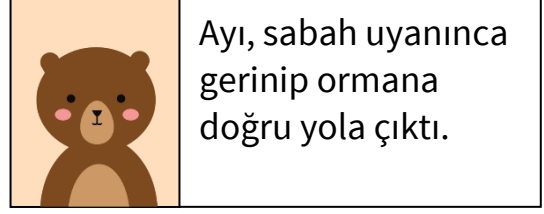
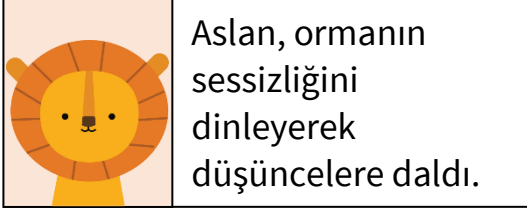
- A) 10 ve 77
B) 10 ve 54
C) 23 ve 54
D) 23 ve 77
16. Aşağıdaki terazi, kelimelerdeki ses olaylarını algılayarak buna göre bir denge sağlamaktadır.



Buna göre, terazinin dengede kalabilmesi için aşağıdaki sözcüklerden hangisi boş kutuya getirilmelidir?

- A) emretmek
B) kahretmek
C) bakkal
D) hakkı

17. Aşağıda, üzerinde hayvan görselleri bulunan kartlara birer cümle yazılmıştır.



Hangi kartlardaki cümlelerde kişileştirme söz konusu değildir?

- A) Aslanın kartındaki
 B) Ayının kartındaki
 C) Zürafanın kartındaki
 D) Kaplanın kartındaki
18. Benzetme, zayıf olan bir varlığın güçlü olan bir varlığa herhangi bir yönüyle benzetilmesidir.

Ne yıldızlar kaynaşır gökyüzünde,
 Ne sevdıyla taşar dolar gönüller,
 Bir rüzgâr eser ki bıçak gibi
 El, ayak şişer

Cahit KÜLEBİ
 (Kısaltılmıştır.)



Buna göre, bu dörtlükte yer alan benzetmenin benzeyen ve benzetilen unsurları aşağıdakilerden hangisinde doğru olarak verilmiştir?

- | | <u>Benzeyen</u> | <u>Benzetilen</u> |
|----|-----------------|-------------------|
| A) | Yıldızlar | Sevda |
| B) | Rüzgâr | Bıçak |
| C) | Sevda | Gönül |
| D) | Bıçak | El, ayak |

19. Levent TV’de akşam yayınlanan programlar ve bu programlara ait akıllı işaretler aşağıdaki tabloda verilmiştir.

11.00	<i>Belgesel - Tekrar</i> Muflonlar	
13.15	<i>Yarışma - Yeni Bölüm</i> Bil Bakalım	
16.30	<i>Yerli Film - Tekrar</i> Kimsesiz	
18.45	<i>Eğlence - Yeni Bölüm</i> Gancelli Kafası	
20.00	<i>Yabancı Film - Tekrar</i> Büyük Fırtına	

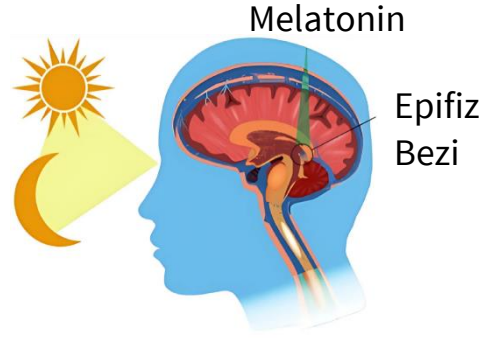
Günay, 12 yaşındadır ve ailesi, yalnızca yaşına ve içeriğine uygun programları izlemesine izin vermektedir. Günay, belirtilen saatler arasında ailesi ile birlikte televizyon izlemek istemektedir.

Buna göre Günay, Levent TV’de yayınlanan hangi saatlerdeki programları izleyebilir?

- A) 11.00, 13.15 ve 16.30
 B) 11.00, 13.15 ve 18.45
 C) 11.00, 13.15, 16.30 ve 20.00
 D) 11.00, 13.15, 16.30 ve 18.45
20. “Uzaktan bakınca, güneşin batışı ile oluşan renklerin dağın üzerine yansımaya insanın gözleri doymuyor; sanki bağrıma dolan serin bir hava gibi dokunuyor içime.” cümlesinde birden fazla ses olayı bulunmaktadır.
- Buna göre, aşağıdaki cümlelerin hangisinde bu ses olaylarının tamamı yer almaktadır?**
- A) Atkı ile uyumlu kazağın mevsime uygun olduğunu fark edince alışveriş başlıyor.
 B) Küçük çocuk, burnu kaşındığı için aniden kafasını geri çekti ve elindeki topu yanlışlıkla yere attı.
 C) Bir tabak dolusu yemeği yiyip karnı doyunca derin bir nefes aldı.
 D) Birden dönüp “Artık çok geç!” diyerek keskin benziyle uzaklaşıyordu.

(21, 22, 23 ve 24. sorular aşağıdaki metne göre yanıtlanacaktır.)

Epifiz bezi, geçmişten günümüze merak konusu olmuş, pek çok bilim insanı tarafından incelenmiştir. Bu bez, konum olarak beynin tam orta kısmında yer alır. Bu bezin insan yaşamına önemli bir etkisi vardır. Epifiz bezi tıpkı bir nohut gibidir. Melatonin denilen sağlığımız açısından çok önemli bir hormonun salgılanmasını sağlar. Göze benzediği için de ilk olarak Fransız filozof Descartes tarafından üçüncü göz olarak isimlendirilmiştir. İnsanda çift olarak bulunmayan, insan vücudu ile zihnini birleştiren çok önemli bir organdır. Bu salgı bezinin iyi çalışması, kişinin özellikle ruh sağlığı açısından oldukça önemli. İşte bu bakımdan pek çok kişinin araştırma alanına giriyor. Özellikle güneş ışığını yeterince almak, epifiz bezinin doğru çalışması için çok önemli. Bu durumda “Güneş girmeyen eve doktor girer.” atasözü bir kez daha doğrulanmış oluyor. Böyle olmasına karşın epifiz bezi karanlıkta çalışıyor. Bu nedenle yattığımız odanın da karanlık olmasına dikkat etmek gerekir. Hakkında çok şey bilinmesine rağmen bu bezdeki sır, hâlâ tam olarak çözülmüş değil. Vücudumuz hakkında bilmediğimiz o kadar çok şey var ki epifiz bezi bunlardan sadece biri.



21. Aşağıdaki ifadeler, metne göre değerlendirildiğinde; doğru olanlara “D”, yanlış olanlara “Y” yazıldığında, sıralama hangi seçenekte doğru verilmiştir?

- I. Epifiz bezi çift olarak bulunur. ()
- II. Descartes epifiz bezini üçüncü göz olarak adlandırmıştır. ()
- III. Melatonin salgısı için karanlık ortam gereklidir. ()
- IV. Epifiz bezinin görevi tam olarak çözülebilmıştır. ()

- A) I-D II-Y III-Y IV-D
- B) I-D II-D III-D IV-Y
- C) I-Y II-D III -D IV-Y
- D) I-Y II-D III -D IV-D

22. Metne göre epifiz bezinin salgıladığı hormon aşağıdakilerden hangisidir?

- A) Melatonin
- B) Serotonin
- C) Adrenalin
- D) Dopamin

23. Metne göre epifiz bezinin işlevini sürdürebilmesi için aşağıdakilerden hangisi önerilmiştir?

- A) Her gün egzersiz yapmak
- B) Güneş ışığını yeterince almak
- C) Sürekli karanlıkta kalmak
- D) Melatonin takviyesi kullanmak

24. Metindeki altı çizili cümlelerin anlam özelliği aşağıdakilerden hangisidir?

- A) Örnekleme
- B) Benzetme
- C) Karşılaştırma
- D) Neden-sonuç

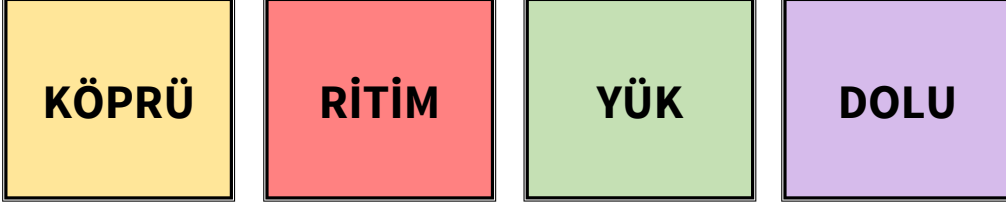
25. Görseldeki çarkların dönebilmesi için, her çarkın içinde yer alan kelimelerin yapım eki almış olması gerekmektedir.

Buna göre, soru işaretiyle belirtilen bölüme aşağıdakilerden hangisi yazılırsa çarklar dönmez?






- A) Uğurla
- B) Yarış
- C) Boşluk
- D) Düşünce

26. Özge, aşağıdaki kartların üzerinde yazan kelimeleri alfabetik sıraya göre dizdikten sonra bu kelimeleri, sırasıyla mecaz-gerçek-terim-mecaz anlam olacak şekilde cümlelerde kullanıyor.



Buna göre, aşağıdakilerden hangisi Özge'nin kurmuş olduğu cümlelerden biri olamaz?

- A) Nehir üzerine inşa edilen taş köprü, yüzyıllardır ayakta duruyor.
 B) Davulcu ritmi sabit tutarak orkestraya yön verdi.
 C) Ben bu yükün altına giremem, bu yüke herkes katlanamaz.
 D) Sepet, taze meyvelerle dolu halde mutfak tezgâhına konuldu.
27. Dört kişilik bir ofiste, çalışanlara deyimlerle ilgili eğlenceli bir görev verilir. Her bir çalışan, elindeki deyimın anlamına uygun olan numaralı sandalyeye oturacaktır.

			
Şaşmak, şaşırarak, şaşakalmak.	Küçümsemek.	Çok şaşırıp ne yapacağını, ne söyleyeceğini bilememek.	Bir kişi veya şey değerini yitirmek.

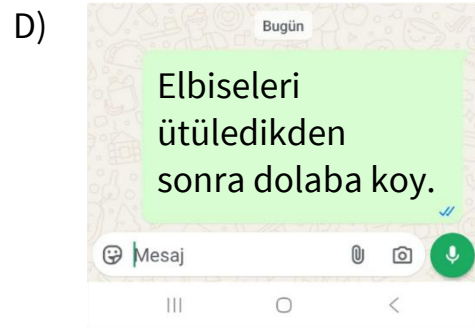
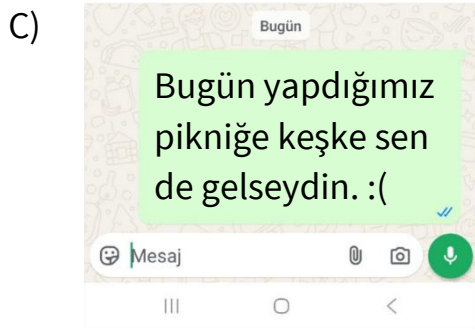
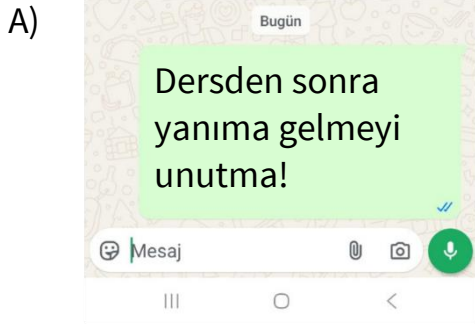
İki, üç ve dört numaralı sandalyelere oturulmuş, ancak bir numaralı sandalye boş kalmıştır.

Buna göre aşağıdaki deyimlerden hangisi, bir numaralı sandalyeye aittir?

- A) Hayret etmek
 B) Gözden düşmek
 C) Tepeden bakmak
 D) Taş kesilmek

28. Sosyal medyada herhangi bir gönderi paylaşırken ya da biriyle mesajlaşırken genellikle dil bilgisi kurallarına uyulmaz. Bu kurallar arasında en çok ihmal edilenlerden biri de ses olaylarıdır.

Aşağıdaki görsellerden hangisinde, bu durumu örnekleyen bir kullanım hatası yoktur?



29. Tan, neden-sonuç ve amaç-sonuç cümleleri ile ilgili aşağıdaki tabloyu doldurmuştur.

I. Uykusuz kaldığı için derste dikkati dağıldı.	+
II. Kelimenin anlamını öğrenmek için sözlüğe baktı.	-
III. Artık daha sağlıklı yaşamak için spora başlamıştı.	+
IV. Elektrik kesildiğinden bilgisayar bir anda kapandı.	+

Bu tabloda numaralanmış cümlelerde neden-sonuç varsa karşısına "+", amaç-sonuç varsa "-" koymuştur.

Tan'ın numaralanmış cümlelerden hangisinin karşısına koyduğu sembol yanlıştır?

- A) I
B) II
C) III
D) IV

30. Aşağıda bazı cümleler ve bu cümleleri temsil eden şekiller verilmiştir.

I - Efsane başkan açıklamalarda bulunuyordu.

II - Dünyanın en büyük otomobil üreticisi onlardı.

III - Albert Einstein, Nobel Fizik Ödülü'nü kazanmıştı.

IV - Üretilen ilk balonlu sakızın rengi pembeydi.

V - Günümüzde herkes bilgisayar kullanır.

■ simgesi, öznel cümleleri,

● simgesi, nesnel cümleleri temsil etmektedir.

Cümlelerin türlerine göre simgelerle eşleştirilmesi yapılmıştır.

Buna göre, aşağıdaki seçeneklerden hangisinde cümleler ile simgelerin eşleştirilmesi doğru verilmiştir?

- | | I | II | III | IV | V |
|----|---|----|-----|----|---|
| A) | ● | ■ | ● | ● | ■ |
| B) | ■ | ■ | ● | ● | ● |
| C) | ● | ● | ■ | ■ | ● |
| D) | ■ | ■ | ● | ● | ■ |

31. Aşağıdaki cümlelerin hangisinde kullanılan noktalama işaretleri bulunduğu cümleye uygun değildir?

- A) 1996–2000 yılları arasında üst üste şampiyonluk yaşadılar.
 B) Bugün öğrenciler “Dünyayı Verelim Çocuklara” adlı şiiri incelediler.
 C) Ünlü müzik grubu, konserine saat 20.45’te başlayarak seyircilerle buluşacak.
 D) Bu kararın mantığı şuydu; sürecin daha hızlı ilerlemesini sağlamak.

32. Benzetme, sözün etkisini artırmak ya da anlatımı daha güçlü kılmak amacıyla, aralarında benzerlik bulunan iki varlıktan zayıf olanın güçlü olana benzetilmesidir.

Kişileştirme ise, insan dışındaki canlı veya cansız varlıklara insanlara özgü özelliklerin verilmesidir.

Buna göre, aşağıdaki şiirlerin hangisinde diğerlerinden farklı bir söz sanatı kullanılmıştır?

- A) Doğa, şarkısını söylemeye başladı,
Yemyeşil oldu bahçeler bağlar.
Mavi elbisesini giydi sevgili deniz.
İçinde çeşit çeşit türde hayvan.
- B) Hava bulutlanıp gök gürleyince
Bir yağmur başlar ya inceden ince
Serin bir esinti dokunur önce
Bak o zaman topraktaki sevince.
- C) Yanık yapraklarını döküyor üzgün ağaçlar,
Yarım kalan şiirler sahibini arıyor sular da.
Gün boyu sokaklar sessizce uzanıyor,
Gökyüzü bulutlarla örtülmüş bu sabah.
- D) Sabah vakti, bahçelerde,
Cıvıldaşır öterlerdi.
Bembeyaz bulutlar gibi,
Gökyüzünü uçarlardı.

33. Aşağıdaki sözcüklerden hangisi, ünlüyle başlayan bir ek aldığı anda ünsüz yumuşamasına uğrar?


- A) Ahenk
B) Göç
C) Ahlak
D) Sepet

34. Aşağıda, bilgisayar başında göz yorgunluğunu önlemek için yapılması gerekenlerle ilgili bir afiş yer almaktadır.

Bilgisayarın Neden Olduğu Göz Yorgunluğu

Rahatlamak İçin Yapılması Gerekenler:

- Uygun aydınlatma kullanın.
- Parlamayı en aza indirin.
- Daha sık göz kırpın.
- Sık sık ara verin.
- Bilgisayar gözlükleri kullanmayı deneyin.
- Göz egzersizi yapın (Her 20 dakikada bir, bilgisayarınızdan en az 6 metre uzakta bir noktaya 20 saniye bakın).
- Bilgisayarınızın görüntü ayarlarını yapın.
- Sandalye yüksekliğini ve bilgisayar ekranınızı doğru konumlandırın.



Bu yönergeye göre, bilgisayar başında gözleri yorulan biri aşağıdakilerden hangisini yapmamalıdır?

- A) Sandalye ve bilgisayar ekranı arasındaki mesafeyi ayarlamalıdır.
- B) Gözlerini rahatlatmaya yönelik egzersizler yapmalıdır.
- C) Bilgisayarın görüntü ayarlarını kendine uygun şekilde düzenlemelidir.
- D) Bilgisayar ekranına bakarak uzun süre dik pozisyonda oturmalıdır.
35. Aşağıda, sembollerle eşleştirilmiş bazı cümleler verilmiştir.

★	Deniz, sabaha kadar öfkeyle kıyıya vuruyordu.
●	Kalem, bütün gece bana küs kaldı; ne denesem olmadı.
♥	Rüzgâr, tatlı tatlı esiyor, saçlarını okşuyordu.
◆	Yağmur damlaları düştükçe mis gibi toprak kokusu yayılıyordu.

Bu sembollerle gösterilen cümlelerin hangisinde kişileştirme yoktur?

- A) ★
- B) ●
- C) ♥
- D) ◆

(36 ve 37. sorular aşağıdaki metne göre yanıtlanacaktır.)

Mutlu Yıllar

Bugün dünyayı istediğin bir renge boya
Rengârenk batan günü al karşına
Bir renk de kendinden kat
Çocuklar gibi saf, temiz ve berrak
Kapat gözlerini bir hikâye yarat
Vazgeçme hissedilir biraz da sıcaklığını kat
Kalbinde ki elleri bırakma sıkıca tut
Çünkü varlıktır sevgiye en güzel kanıt
Yalnızlığın saltanatını sür, sür ama
Birikmiş sevginden, herkese bir parça ver
Bir tebrik, bir arama bin umuttur insana
Mutlu yıllar, mutlu yıllar sana.



Can YÜCEL

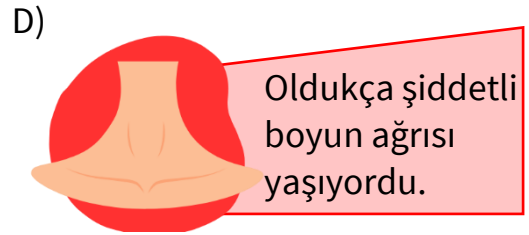
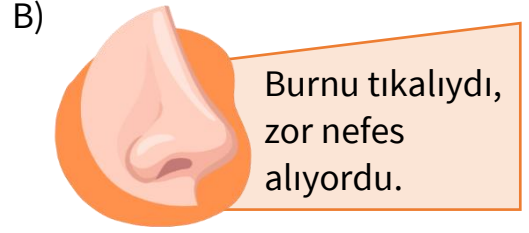
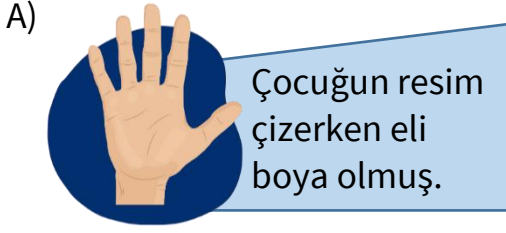
36. Şairin “Bir renk de kendinden kat” dizesiyle vermek istediği mesaj aşağıdakilerden hangisidir?

- A) Kendine özgü ol ve kendine katkı sağla
- B) Kendi hayatını yalnız yaşa
- C) Sadece başkalarının isteklerine göre yaşa
- D) Renkleri karıştırma

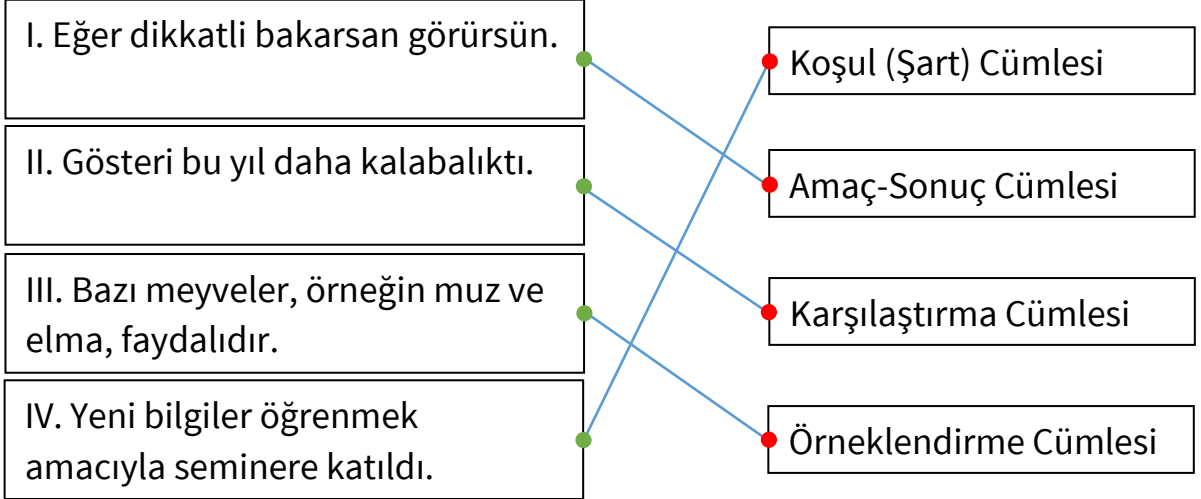
37. Aşağıdakilerden hangisi şiirde geçen bir eylem değildir?

- A) Hikâye yaratmak
- B) Gözlerini kapatmak
- C) Kalpleri kırmak
- D) Tebrik etmek

38. Aşağıda görselleri verilen kavramlardan hangisinin kullanıldığı cümlede hece düşmesi meydana gelmiştir?



39. Aşağıda bazı cümleler ve bu cümlelerin ait olduğu anlam özellikleri eşleştirilmiştir:

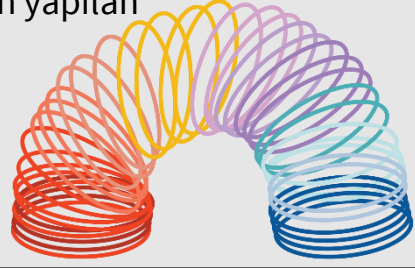


Yukarıdaki eşleştirmelerden hangilerinde yanlışlık yapılmıştır?

- A) I ve III
 B) I ve IV
 C) II ve III
 D) II ve IV

40. Aşağıda karışık cümlelerden oluşan bir paragraf verilmiştir.

1. Yayları bu hareketinden ilham alan Richard James çocukların eğlenerek oynayacağı bir oyuncak tasarlar.
2. Bu oyuncuğı çok seven çocuklar yayların bir elinden diğere eline hareket edişini, merdivenlerden aşağı doğru inişini çok beğenirler.
3. 1943 yılında Richard James adında bir gemici, gemideki malzemelerin kırılmasını önlemek için bir yay tasarlamaya karar verir.
4. Bunun için pek çok yay üretir.
5. Yaylar sanki yürüyormuşçasına hareket eder.
6. Günümüzde metalden veya plastikten yapılan bu oyuncak hâlâ her yaştan insanın ilgisini çekmeye devam etmektedir.
7. Bir gün bu yaylardan birini raftan indirmeye çalışırken yaylar yere düşer.



Yukarıdaki cümlelerle anlamlı bir paragraf oluşturulduğunda sıralama nasıl olur?

- A) 3, 4, 7, 5, 1, 2, 6
- B) 3, 4, 7, 1, 2, 5, 6
- C) 1, 3, 4, 7, 5, 2, 6
- D) 1, 4, 3, 7, 5, 2, 6

ENGLISH QUESTIONS

PART A: Read the text and answer the questions 1-6.

Traditional Foods Around The World



In many Asian countries, such as Japan, Korea, and Thailand, traditional *dishes are delicious, often made with rice, vegetables, or noodles. One popular dish is sushi from Japan, made with rice and raw fish. It tastes best when fresh, and people often eat it with soy sauce and wasabi. In Korea, people enjoy kimchi, a vegetable dish, while in Thailand, pad thai, a noodle dish with peanuts and shrimp, is a favourite street food.

In European countries like Italy, France, and Spain, traditional foods are made with bread, rice, and fresh **ingredient(s). In Italy, people love pizza, which has a flatbread base with tomato sauce, cheese, and other toppings. People can eat pizza for lunch or dinner. In France, baguettes, a long, crispy bread, became popular in the 20th century. In Spain, paella, a rice dish with seafood and vegetables, is popular.

In Latin American countries such as Mexico and Argentina, traditional dishes are often made from corn, beans, and meat. In Mexico, tacos are a favourite. They are tortillas filled with meat, beans, vegetables, and many other toppings, and people can eat them any time of day. In Argentina, people eat empanadas, which are stuffed pastry pockets with meat or cheese.

In South Asian countries such as India, Pakistan, and Sri Lanka, traditional foods are full of spices and served with rice or bread. In India, curry is a well-known dish made with spices, vegetables, and sometimes meat. People usually eat it with rice or bread. In Pakistan, biryani, a spiced rice dish with meat, is popular. In Sri Lanka, bowl-shaped rice pancakes, also called hoppers, are very popular for breakfast.

***dish(es)** a kind of food that is cooked as part of a meal.

****ingredient(s)**-one of the foods or things you use to make a dish or a meal.

1. Where do people make dishes with lots of spices?

- A) In European Countries
- B) In Asian Countries
- C) In South Asian Countries
- D) In Latin American Countries

2. Which ingredient is the same in “paella” and “biryani”?

- A) rice
- B) seafood
- C) vegetables
- D) meat

3. Which of the following is not a dish made in Asian countries?

- A) Pad thai
- B) Sushi
- C) Empanadas
- D) Kimchi

4. When is the best time to eat “hoppers”?

- A) In the morning
- B) At lunch time
- C) Any time of day
- D) At night

5. Which food would someone who doesn't eat meat choose from the list of foods mentioned in the text?

- A) Empanadas
- B) Tacos
- C) Biryani
- D) Paella

6. Choose the option that is correct about the text.

- A) In Latin American countries, people use bread, rice and fresh ingredients to make traditional foods.
- B) Pad thai is a vegetable dish made in Thailand.
- C) People make tacos and empanadas with rice.
- D) People eat sushi with soy sauce and wasabi.

PART B: Choose the correct answer.

7. In Cyprus, people celebrate New Year's with their families.

_____ New Year's Day, everyone cooks special meals, and _____ night, they celebrate this special time of year. They sometimes listen to music _____ TV, or play games until midnight.

- A) At / at / on B) In / in / at C) On / at / on D) On / at / in

8. Choose the sentence that is grammatically correct.

Jonathan: Hi, Grandma. Did you buy anything from the greengrocer's?

Grandma: No, dear. But if you're feeling hungry, _____.

You can go and pick some from the garden.

Jonathan: Thanks, Grandma. I'll do that.

- A) there is some apples on the tree.
 B) there are some apples on the tree.
 C) there is an apples on the tree.
 D) there are any apples on the tree.



9. I have a very big family, and they all look like each other.

The men_____blue eyes and brown hair, but aren't too tall and the women_____ all very tall. My brother is quite different, though.

He_____blue eyes and he is very tall like our mother.

- A) has / is / doesn't have
- B) have / are / doesn't have
- C) are / are / isn't having
- D) have / is / don't have

10. **Waiter:** Good evening. Would you like something to drink?

Customer: Yes, I'd like tea with _____ sugar, please.

Waiter: I'm afraid we haven't got _____ tea left. There is _____ coffee if you like.

Customer: Ok. I'll have _____ cup of coffee instead.

Waiter: Of course. Your order will be ready in five minutes.

Customer: Thanks

- A) some / any / a / a
- B) a / some / some / an
- C) some / any / some / a
- D) any / a / any / some



11. Choose the best option to complete the sentences.

I work as a _____ at a restaurant. One of our favourite dishes is meatballs in hot tomato sauce. If you want to enjoy my _____ recipe, you're welcome anytime.

- A) chef / delicious
- B) waitress / terrible
- C) waiter / horrible
- D) cashier / strange

12. Joe: Hey, Wilma! What's the matter?

Wilma: I _____ awful. I have a headache and a stomach ache.

Joe: Oh! I'm sorry. I hope you get better soon.

Wilma: Thanks.

- A) taste B) sound C) smell D) feel

13. Read the following description and choose the correct answer.

Children love doing this outdoor activity because they can go out into the open fields with their families. They can run around and do a lot of exercise while doing it. It is especially fun if the weather is windy.

- A) Sledging B) Flying Kites C) Skiing D) Horse-riding

14. Why did Jess write this message?

Jim,
I've just come back from the supermarket and I forgot to get butter! Could you go to the supermarket on your way home from work and pick some up? Thanks.
Jess

- A) To ask Jim to buy something when he finishes work.
- B) To let Jim know that he doesn't have to buy anything.
- C) To tell Jim to go back home after he finishes work.
- D) To thank Jim for buying butter from the supermarket.

15. Choose the best option to complete the paragraph.


It was a beautiful day for some outdoor activities, _____.
Later, we had ice cream and sat under a tree. Our friends joined us in the afternoon and we played football. When it started to get dark, we went back home to have dinner.

- A) because there was a storm
- B) and I wore my jacket and boots
- C) but we decided to stay home and watch TV
- D) so we went for a walk in the park

16. Look at the activities Alice wrote in her diary. On which days does Alice have to do some chores, too?

Alice's Diary

MONDAY	Play games, watch TV
TUESDAY	Feed the cat, walk the dog
WEDNESDAY	Play tennis, listen to music
THURSDAY	Visit grandma, read a book
FRIDAY	Take the rubbish out, watch a movie



- A) Monday and Wednesday
- B) Tuesday and Friday
- C) Wednesday and Thursday
- D) Tuesday and Thursday

17. Helen: How old is your sister?

Alice: Oh! She's only six months old.

Helen: Can I give her some biscuits?

Alice: No, that's not a good idea! She doesn't have teeth, so she can only have baby food and _____.

Helen: Can I give that then?

Alice: Ok. Let me put it in a bowl for you.

- A) sausage
- B) nuts
- C) soup
- D) mushrooms

18. Jordan: _____ you a healthy person when you were young?

Grandpa: Yes, I was. I did a lot of sports and ate food with all kinds of vitamins.

Jordan: What _____ you _____ to give you strong bones?

Grandpa: I ate foods that had vitamin D, like eggs and fish.

Jordan: My mother always _____ eggs every morning before school. So that means I have strong bones, too.

Grandpa: Yes, but make sure you have all kinds of vitamins in your diet so that your body can _____ and stay healthy. And don't forget to drink plenty of water!

- A) Were / did / ate / makes / grow
- B) Are / do / eat / made / grew
- C) Were / did / eat / makes / grow
- D) Was / are / eating / is making / growing



19. Look at the information below and choose the option that is not correct.

“Molly is 1.72 metres tall. Jane is 1.55 metres tall. Michael is 1.75 metres tall.”

- A) Jane is shorter than everyone.
- B) Molly and Jane are taller than Michael.
- C) Molly is taller than Jane.
- D) Michael is taller than Molly and Jane.

20. Put the words in order.

don't	for breakfast	drink	I	milk	always
-------	---------------	-------	---	------	--------

1**2****3****4****5****6**

A) 6 / 4 / 1 / 3 / 2 / 5

B) 4 / 6 / 1 / 3 / 5 / 2

C) 2 / 4 / 6 / 1 / 5 / 3

D) 4 / 1 / 6 / 3 / 5 / 2

MATEMATİK	
1	D
2	C
3	B
4	A
5	D
6	C
7	A
8	A
9	C
10	C
11	D
12	C
13	B
14	C
15	D
16	D
17	B
18	C
19	B
20	B
21	D
22	A
23	A
24	D
25	B
26	D
27	C
28	B
29	D
30	A
31	B
32	A
33	C
34	B
35	A
36	D
37	C
38	C
39	B
40	C

TÜRKÇE	
1	A
2	C
3	B
4	C
5	D
6	A
7	C
8	B
9	D
10	C
11	A
12	C
13	D
14	C
15	A
16	D
17	C
18	B
19	A
20	D
21	C
22	A
23	B
24	B
25	B
26	D
27	A
28	B
29	C
30	D
31	D
32	D
33	A
34	D
35	D
36	A
37	C
38	B
39	B
40	A

İNGİLİZCE	
1	C
2	A
3	C
4	A
5	D
6	D
7	C
8	B
9	B
10	C
11	A
12	D
13	B
14	A
15	D
16	B
17	C
18	C
19	B
20	D